




Quelle heure est-il?

Écoute et selectionne la bonne heure puis relie



Il est minuit
moins cinq

Il est midi

Il est huit heures
quart

Il est trois heures
moins le quart

Il est cinq heures
trente-cinq

Il est une heure

Il est deux heures
et demie

Il est douze heures