


Nombre y Apellido: _____

Representación de Números en el Tablero de Valor Posicional

¡Completamos!


1. Cuenta los elementos, completa el T.V.P y los espacios correspondientes. (20 pts.)

a)  Parihuanas

D	U

 decena y unidades.


 + = catorce

b)  Cacatúas

D	U

 decena y unidades.


 + = quince

c)  Cigüeñas

D	U

 decena y unidades.

 + = dieciséis

d)  Petirrojos

D	U

 decena y unidades.

 + = diecisiete

e)  Loros

D	U

 decena y unidades.

 + = dieciocho