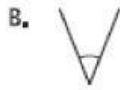


Utrwalenie zadań Kąty

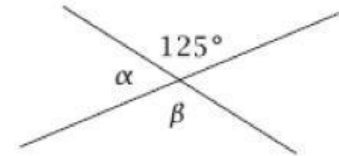
Zadanie 1

Na którym rysunku przedstawiono kąt ostry?



Zadanie 2

Podaj ile wynosi miara kąta $\alpha = \dots\dots\dots$ $\beta = \dots\dots\dots$



Zadanie 3

Uzupełnij zdania, wpisując w odpowiednich miejscach podane miary kątów.

59° 86° 142° 191° 5° 83° 90° 284°

Miary kątów ostrych to

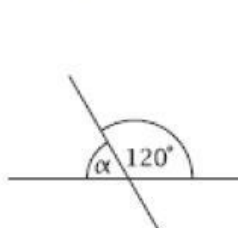
Kąt prosty ma miarę

Miary kątów rozwartych to.....

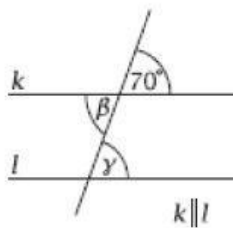
Uwaga okienek jest więcej niż powinno być odp.

Zadanie 4

Podaj miary kątów oznaczonych literami.



$\alpha = \dots\dots\dots$

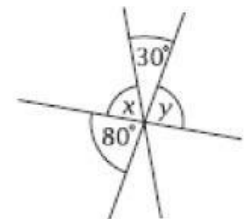


$\beta = \dots\dots\dots$

$\gamma = \dots\dots\dots$



$\delta = \dots\dots\dots$



$x = \dots\dots\dots$

$y = \dots\dots\dots$