

REFUERZO DE MATEMÁTICAS

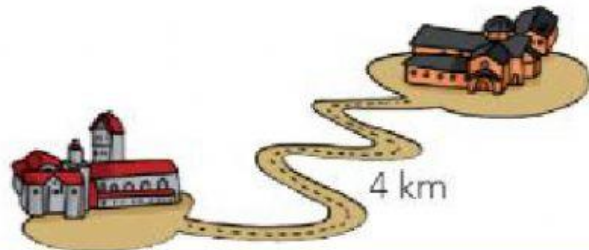
El metro, el centímetro y el kilómetro

El **metro** es la unidad principal que utilizamos para medir longitudes.
Se escribe **m**.



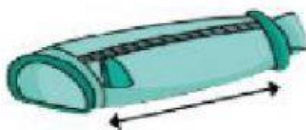
Para medir longitudes pequeñas, utilizamos el **centímetro**.
Se escribe **cm**.

Para medir distancias largas, utilizamos el **kilómetro**.
Se escribe **km**.



1

Escribe una x en la unidad de medida más adecuada en cada caso.



m	cm	km
---	----	----



m	cm	km
---	----	----



m	cm	km
---	----	----

2

¿Cuánto miden estas longitudes? Escribe una x.



- ☐ 15 m
- ☐ 15 cm
- ☐ 15 km

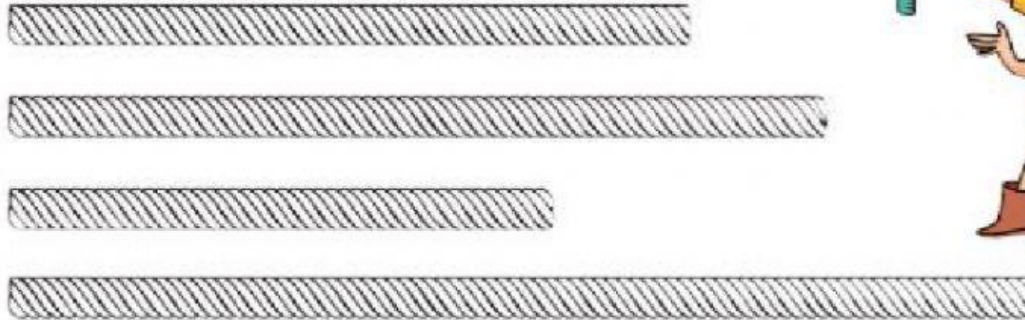


- ☐ 2 m
- ☐ 2 cm
- ☐ 2 km

3

Escribe al lado de cada cuerda cuál es su color.

- La cuerda roja es la que mide más.
- La cuerda azul mide 12 cm.
- La cuerda amarilla mide 4 cm menos que la azul.
- La cuerda verde mide 2 cm más que la amarilla.



Para medir, coloca el 0 al comienzo de la cuerda y mira hasta qué número llega.



4

Ordena estas medidas de menor a mayor.

32 cm

32 m

32 km

3 cm

< < <

5

¿Cuánto mides, más o menos que un metro?
Utiliza una cinta métrica para averiguarlo.

☐

menos que 1 m

☐

más que 1 m

¿Sabías que 1 metro
son 100 centímetros?
 $1\text{ m} = 100\text{ cm}$