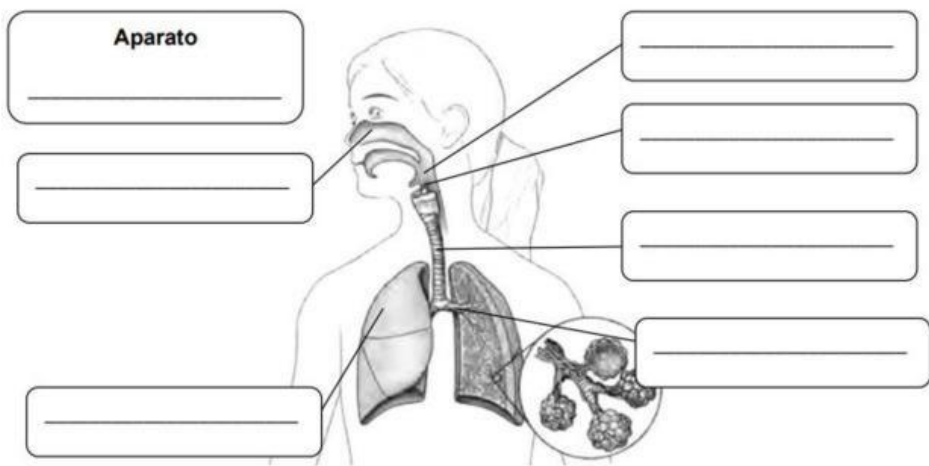
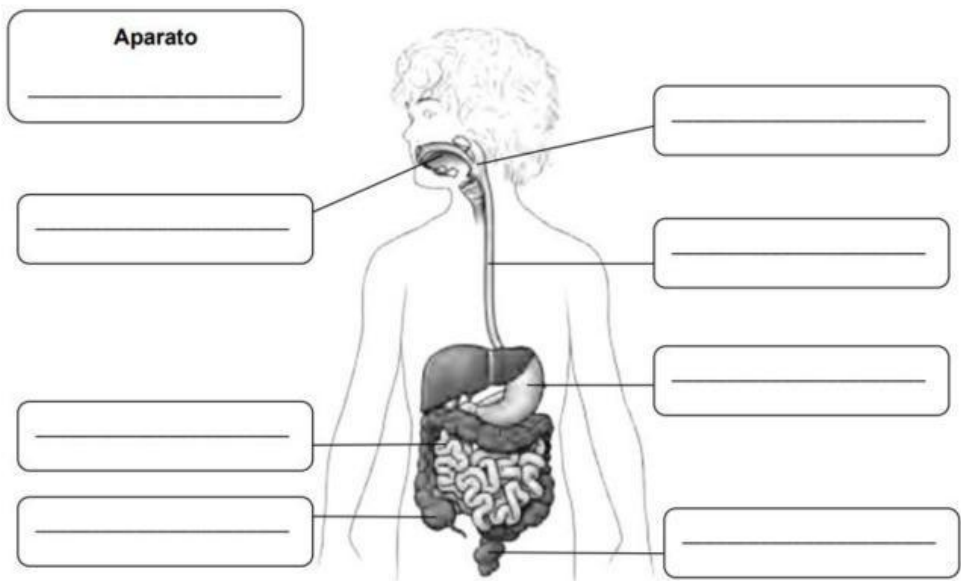


SITUACIÓN DE APRENDIZAXE 1. A VIDA EN COMPAÑA

Nome: _____ Curso: _____ Data: _____

Obter enerxía

1. Indica que aparato representa cada imaxe e escribe o nome das partes que se sinalan.



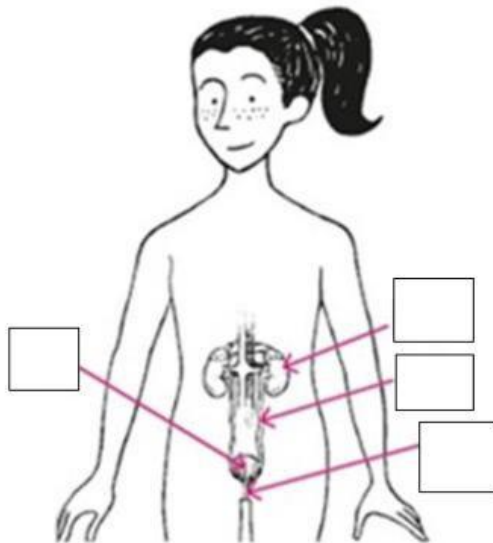
SITUACIÓN DE APRENDIZAXE 1. A VIDA EN COMPAÑA

Nome: _____ Curso: _____ Data: _____

Obter enerxía

2. Escribe cada número onde corresponda. Despois, contesta.

1 Uréter 2 Uretra 3 Vexiga urinaria 4 Ril



• Que aparato representa a imaxe?

• De que forma podemos eliminar as substancias tóxicas do corpo?

3. Completa as seguintes oracións.

- O aparato _____ ocúpase da circulación do sangue, que transporta nutrientes e _____ a todas as células do noso corpo e _____ os produtos de refugallo que xeran as células.
- O aparato _____ elimina as substancias de refugallo que se orixinan nas células e está formado polo aparato _____ e as glándulas _____.