

BAB VI

Indonesiaku Kaya Raya

Topik A : Bagaimana Bentuk
Indonesiaku?



5





Topik A : Bagaimana Bentuk Indonesiaku?

Nama : _____

Kelas : _____

No. Absen : _____

Tujuan Pembelajaran :

1. Menelaah kondisi geografis wilayah Indonesia sebagai negara kepulauan/ maritim dan agraris serta mengidentifikasi kekayaan alam.
2. Mengidentifikasi dan menunjukan kekayaan alam yang ada disekitarnya dan merefleksikannya terhadap kekayaan Indonesia.

Petunjuk Pengerjakan :

Kriteria soal 1 (textfield)

- Siswa menjawab secara singkat mengenai soal yang telah diberikan.


Kriteria soal 2 (single choice)

- Siswa menjawab soal dengan memilih jawaban yang sesuai dengan pertanyaan yang diajukan.

Kriteria Soal 3 (Chekboxes & select)

- Siswa mencentang jawaban yang tepat.

Kriteria soal 4 (speak)

- Siswa menjawab soal dengan merekam jawabannya dengan menekan tombol  dan secara otomatis akan merekam jawaban.



Topik A : Bagaimana Bentuk Indonesiaku?

Petunjuk Pengerjakan :

Kriteria soal 5

- Siswa menemukan kata mengenai bentuk indonesia melalui teka teki temu

Kriteria soal 6 (Drag)

- Siswa menempatkan kata sesuai dengan gambar yang telah disediakan.

Kriteria soal 7 (Join)

- Siswa menjodohkan antara gambar dan kata dengan benar.

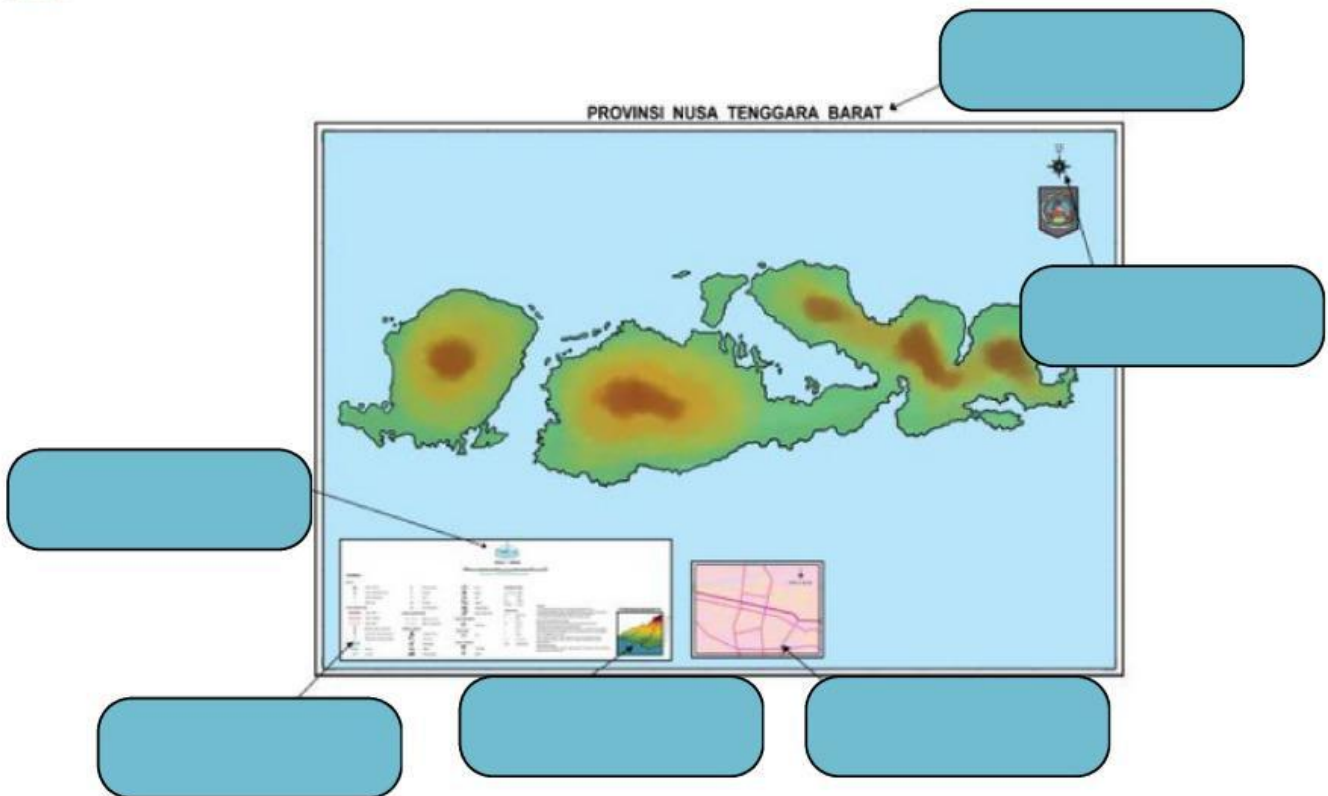




Mari Bermain

1

Lengkapilah kolom-kolom dibawah ini!



2

Sebagai alat bantu untuk menentukan arah mata angin dari peta.
Pengertian tersebut merupakan

3

Yang termasuk dalam informasi umum peta adalah..

Judul Peta

Wilayah

Skala

Legenda


Peta Arsip


Peta Sisipan





4

Apa yang pembicara jelaskan dalam rekaman suara dibawah ini 

Jawab dengan klik disini 

5

Temukan kata-kata dibawah ini yang masuk kedalam informasi umum peta

Tata Warna	Skala	simbolis	peta sisipan
kompas	corak	Simbol	Peta kecil
angin	judul peta	wilayah	arah
1 : 450.000	Gambar	Frame	alat

6

Kelompokkan data dibawah ini sesuai dengan letak geografis Indonesia

Negara Maritim

Negara Agraris

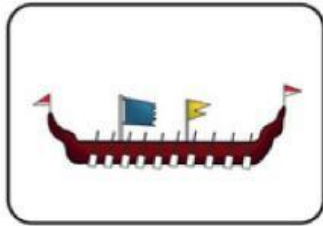
1. Sumber ikan dan makanan laut lainnya.
2. Memiliki wilayah daratan yang luas.
3. Tempat wisata laut atau wisata bahari.
4. memiliki sawah, ladang, dan kebun yang luas.
5. Energi alternatif, seperti pembangkit listrik tenaga angin.





7

Jodohkan gambar dibawah ini sesuai dengan nama alat budaya dari masyarakat maritim dan agraris.



Penumbuk Padi



Pasar Ikan



Perahu



Simak Video Pembelajaran Berikut :

