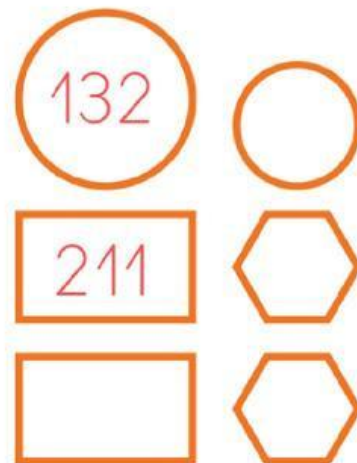
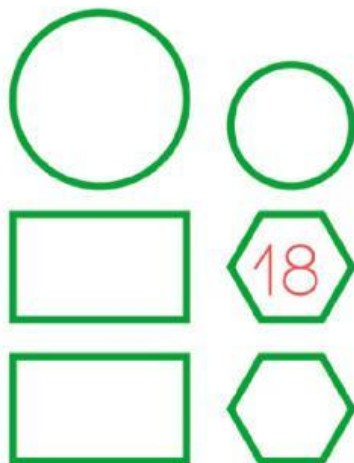
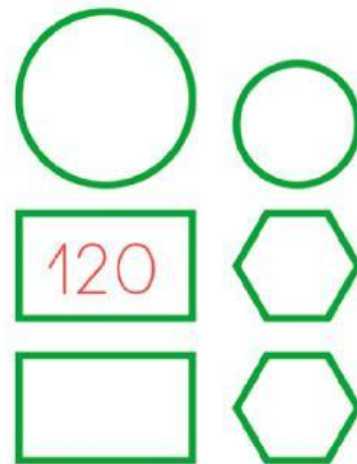
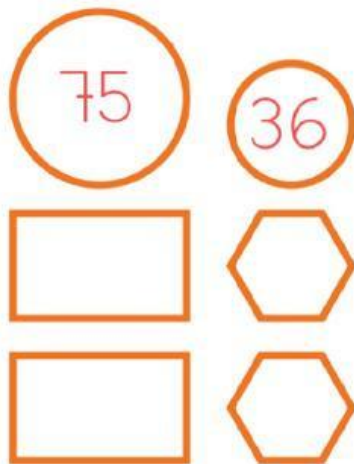


1. Completa los siguientes diagramas.

- Dentro de los círculos pueden ir 2 números cualesquiera (en el círculo grande tiene que ir el número mayor).
- Dentro de los rectángulos tiene que ir la suma de los 2 números de la fila anterior.
- Dentro de los hexágonos tiene que ir la resta de los 2 números de la fila anterior.



¿Qué relación observas entre los números de la primera y la tercera fila de los diagramas?