

FICHA INTERACTIVA DE MATEMÁTICA- 6° "B"


TEMA: Patrones geométricos


1. Arrastra las dos figuras que siguen en el patrón y encuentra los números que faltan en cada tabla.

ALTERNATIVAS:

a)

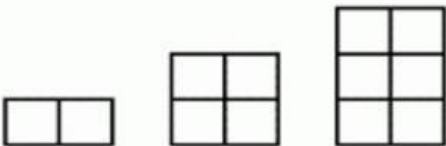
Número de pisos	1	2	3	4	5
Número de bloques	5	10	15		


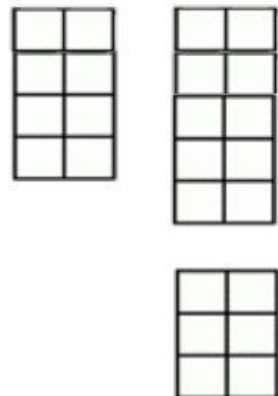




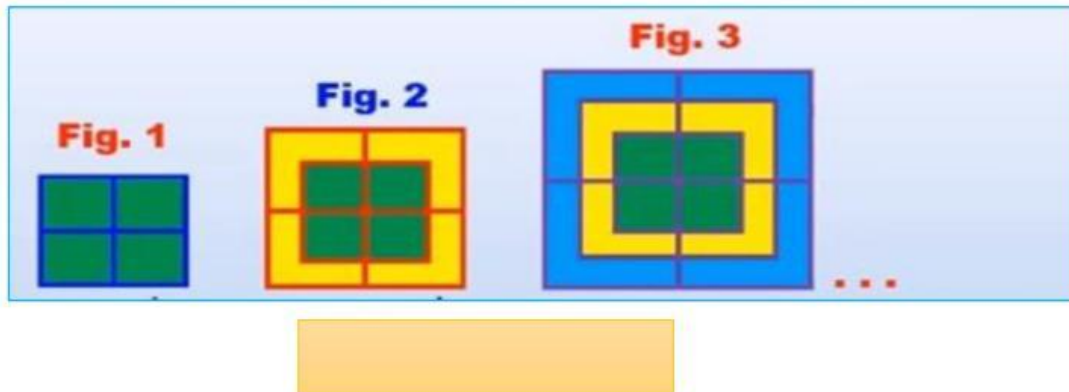

ALTERNATIVAS:

Número de pisos	1	2	3	4	5
Número de bloques	2	4	6		

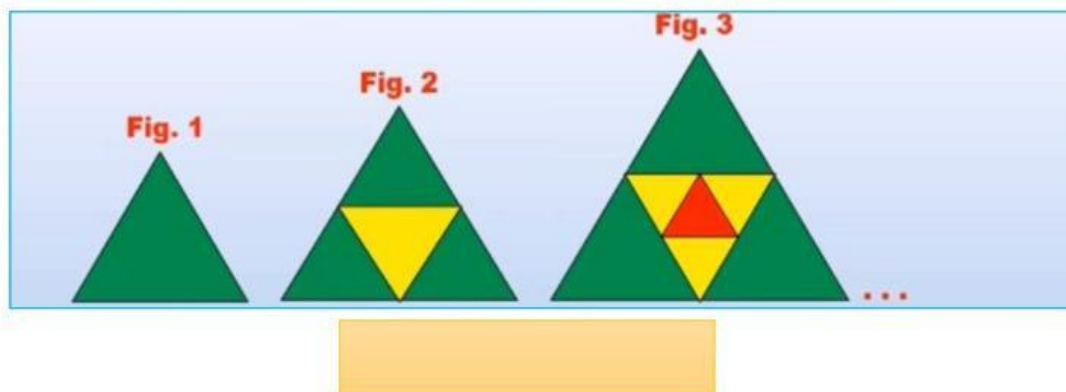


2. ¿Cuántos cuadrados forman la fig. 15 de la secuencia?




3. ¿Cuántos triángulos hay en la fig. 23 de la secuencia?



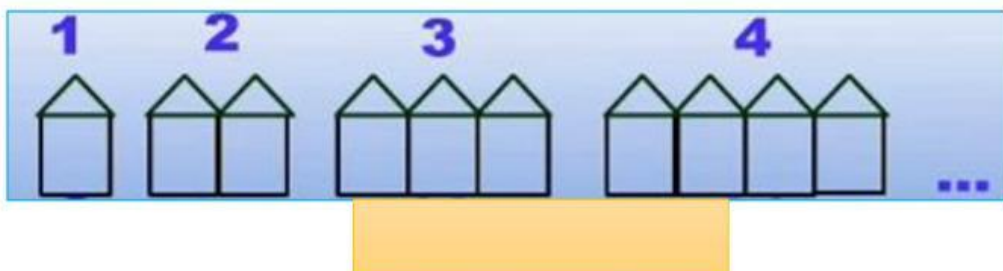
4. Hallar el número de triángulos del lugar 20.



5. Encontrar el patrón para el 15avo. Lugar de la secuencia.



6. Encontrar el número de palitos que se utilizará para construir la casita N° 100 en la secuencia.



7. Encontrar el modelo matemático para el número de bolitas en la figura 15.

