

LEMBAR KERJA PESERTA DIDIK (LKPD)

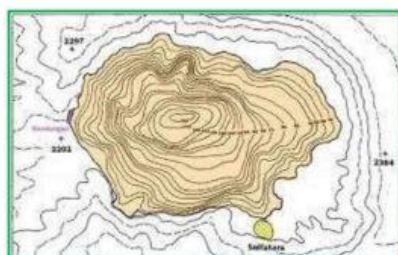
Materi : Pengetahuan Dasar Pemetaan dan Penginderaan Jauh

Nama :

A. TUGAS

1. Cocokkanlah Gambar di bawah ini!

GAMBAR PETA



JENIS PETA

PETA TIMBUL

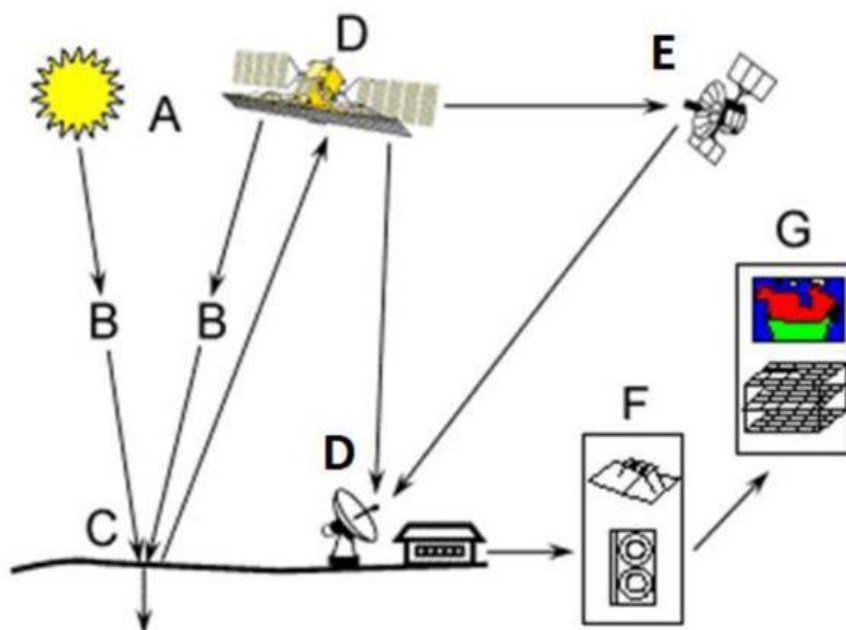
PETA TEMATIK

PETA SKALA SEDANG

PETA TOPOGRAFI

PETA KADASTER

2. Lengkapi komponen-komponen penginderaan jauh di bawah ini!



No	Komponen Peta	Keterangan
A		
B		
C	OBJEK	
D		berfungsi untuk menerima dan merekam tenaga yang datang dari suatu objek
E		
F		
G		

3. Lengkapilah tabel di bawah ini dengan melihat tanda pada gambar dan sesuai dengan unsur-unsur dari penginderaan jauh!


No	Citra Penginderaan Jauh	Unsur-unsur PJ
1		TEKSTUR
2		
3		
4		

5




4. Silahkan sesuaikan gambar dengan komponen SIG di bawah ini!







5. Lengkapilah Teka-teki silang di bawah ini!



Mendatar	Menurun
1. Kebun kopi berada di tanah miring sebab kebun kopi membutuhkan pengatusan air yang baik	2. peta kecil dalam satu bingkai yang berhubungan dengan peta utama
6. Subsistem SIG Penyajian data objek dalam bentuk tabel, peta, grafik	3. Alat untuk membawa sensor ke udara
8. Ilmu yang mempelajari tentang peta	4. Kegiatan menafsir, mengkaji, mengidentifikasi, dan mengenali obyek pada citra dan menilai arti penting obyek tersebut
9. Unsur yang menunjukkan halus dan kasarnya permukaan suatu objek	5. Salah satu syarat pembuatan peta yang baik adalah harus sama bentuk dengan bentuk sebenarnya di lapangan
10. Komponen peta yang berfungsi menerangkan arti dari simbol simbol yang terdapat pada peta	7. Proyeksi yang baik untuk menggambarkan wilayah Asia yang terdapat di sekitar katulistiwa.
11. Penunjuk arah pada peta	12. Data digital yang posisinya diwakili oleh grid sehingga disebut juga sel grid
14. Dalam SIG yang menjadi brainware adalah	13. peta yang menggambarkan kenampakan-kenampakan tertentu
15. Garis di peta yang menghubungkan tempat tempat dengan ketinggian yang sama disebut garis...	

