

LEMBAR KERJA PESERTA DIDIK (LKPD)

Materi : Pengetahuan Dasar Pemetaan dan Penginderaan Jauh

Nama :

A. Petunjuk Belajar

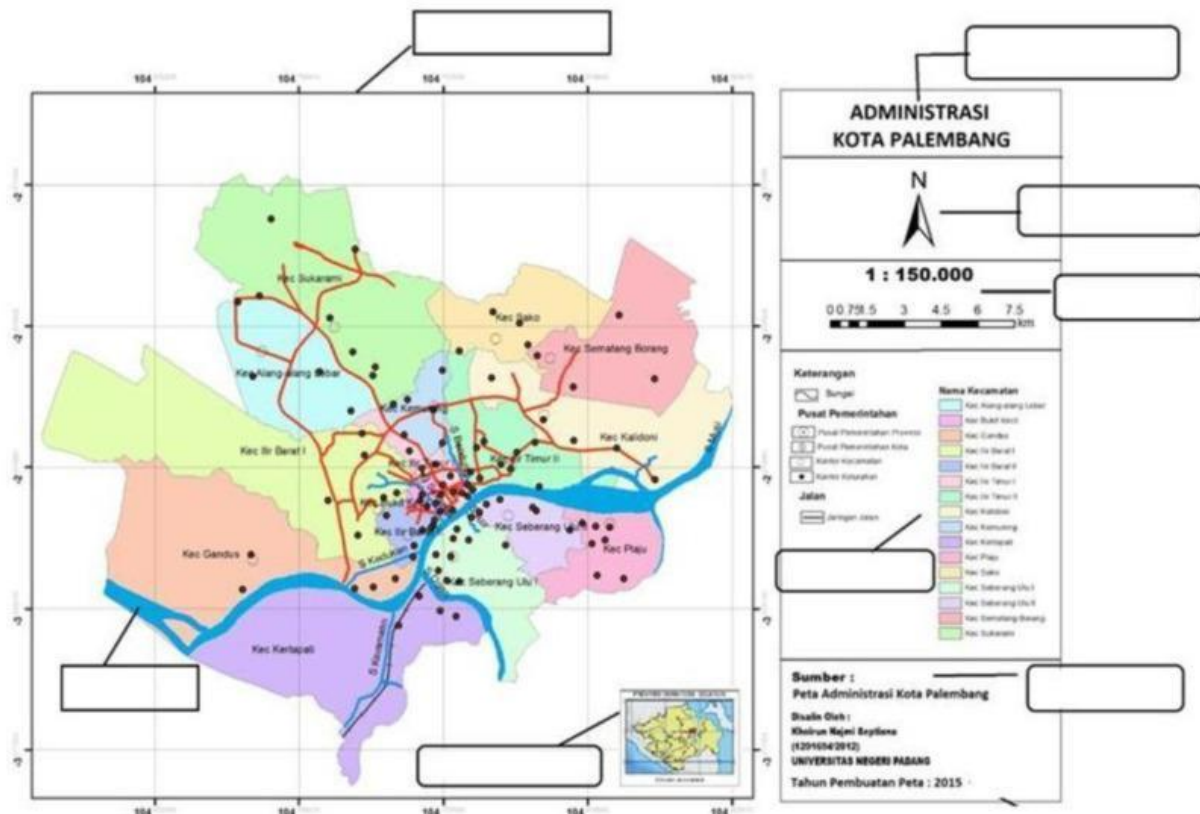
- Baca secara cermat buku ajar sebelum mengerjakan tugas
- Baca literatur lain untuk memperkuat pemahaman siswa
- Kerjakan setiap langkah sesuai tugas

B. Materi



C. TUGAS

1. Lengkapilah komponen-komponen peta di bawah ini!

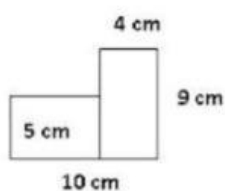


No	Komponen Peta	Keterangan
1		
2		
3		
4		
5		
6		
7		
8		

2. Jawablah Pertanyaan di bawah ini!

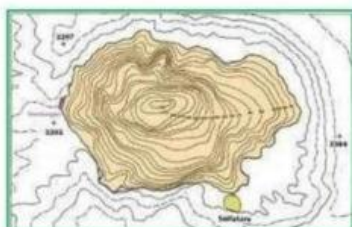
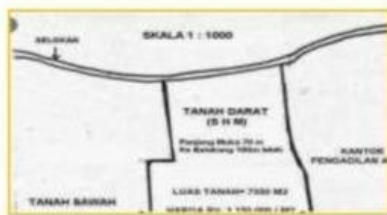
- 1) Rumah Ami berjarak $3 \frac{1}{2}$ km dari sekolah. Di denah tertulis 5 cm. Maka skala yang harus digunakan ialah

- 2) Sebuah bangunan berbentuk seperti gambar, dengan skala 1 : 300. Luas sebenarnya bangun tersebut adalah



3. Cocokkanlah Gambar di bawah ini!

GAMBAR PETA



JENIS PETA

PETA TIMBUL

PETA TEMATIK

PETA SKALA SEDANG

PETA TOPOGRAFI

PETA KADASTER

