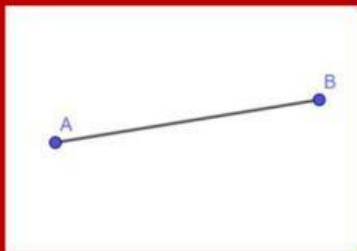
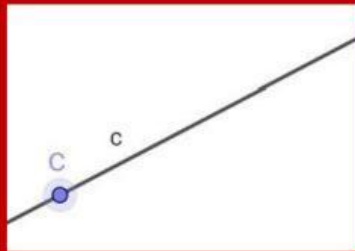


Točka. Pravac. Ravnina.


1 Poveži sliku geometrijskog pojma s njegovim nazivom.



pravac



polupravac



duljina

2

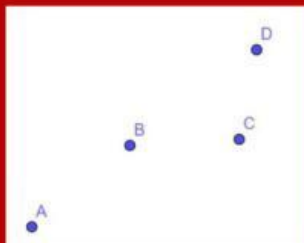
Točke označavamo , , slovima.

Pravce označavamo , , slovima.

Ravnine označavamo , slovima.

3

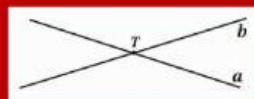
Za svaku sliku označi jesu li točke kolinearne ili nekolinearne.



4

Dopuni rečenice za svaku sliku.

Pravci se .



Pravci su .



Pravci se .

