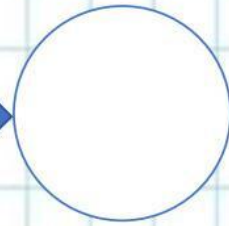
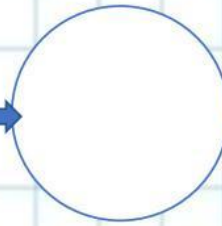
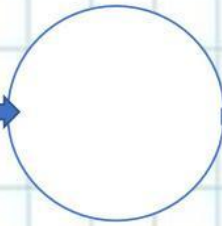
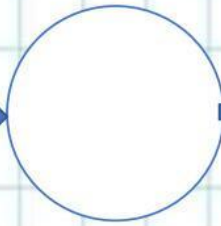



# SISTEMA MONETARIO

## 1. Ordena de mayor a menor los billetes



## 2. ordena de mayor a menor las monedas



## 3. Resuelve el siguiente problema.




Mariana fue al supermercado y compro una caja de cereal \$ 2,300, un maní con uvas pasas \$1,250 y un jugo de naranja \$950. Mariana quiere saber ¿cuánto dinero gasto?, ayúdala a sacar la cuenta

Mariana gasto \_\_\_\_\_ en el supermercado...



#### 4. Une con línea la equivalencia de las siguientes cantidades



#### 5. Une con línea el dinero según el valor correspondiente a cada artículo



\$ 14,400



\$26,500