

ACTIVIDAD 5.1: MINIRETO Clasifica las bacterias por su forma.

Eres un científico y te han encargado que identifiques una bacteria que está provocando una epidemia.

1º debes **clasificar** las siguientes **bacterias** según su **forma**.

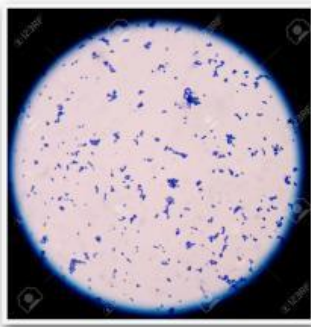
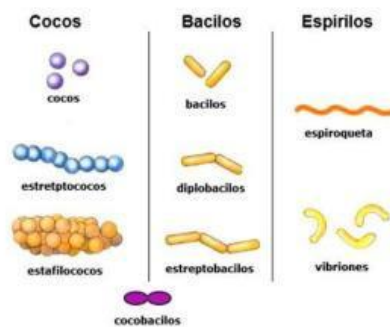
Te han dejado una **guía** para que seas capaz de hacerlo. Fíjate muy bien en ella y di qué **tipo** es cada una de las **imágenes** que te damos a continuación.

2º clasificadas, debes **buscar** en **internet** el **nombre** de la bacteria que está provocando la **epidemia**. Aquí tienes unas pistas para poder identificarla:

- Se cree que se está **transmitiendo** por el **agua**
- La bacteria tiene mucha **movilidad**
- Provoca **diarrea** y **vómitos**
- La enfermedad que provoca se llama **cólera**.

SOLUCIÓN:

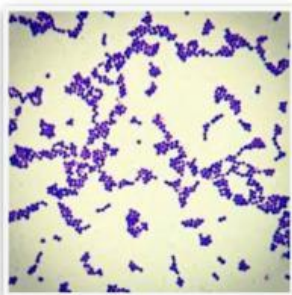
GUÍA




1



2



3



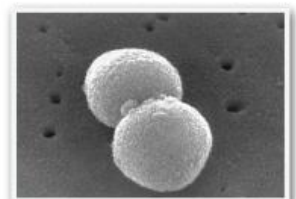
4



5



6



7