

Simak video dibawah ini denan seksama .

Setelah selesai slahkan kerjakan soal dibawahnya. !







Nama	
Kelas	
Nomor absen	

Pilihlah satu jawaban yang paling tepat

1. Uraian berikut yang bukan definisi pasar secara ekonomi yaitu
 - a. pasar adalah sarana bertemunya pembeli dan penjual, baik secara langsung maupun tidak langsung untuk melakukan kegiatan transaksi jual beli
 - b. pasar adalah suatu mekanisme pertukaran sehingga terjadi transaksi jual beli
 - c. pasar adalah titik potong antara fungsi permintaan dan penawaran
 - d. pasar adalah tempat pembeli menjual barang dagangan
2. Hal yang membedakan antara pasar lokal dan pasar nasional adalah
 - a. jumlah pedagang
 - b. jumlah pembeli
 - c. lingkup wilayahnya
 - d. jumlah barang yang diperjualbelikan
3. Pasar Bawang, Pasar Pegeg, Pasar Trayeman merupakan contoh pasar... .
 - a. Modern
 - b. Tradisional
 - c. Absrak
 - d. Tahunan
4. Peranan pasar bagi produsen adalah
 - a. sarana bersaing
 - b. membuka kesempatan kerja
 - c. memperkenalkan produk barang
 - d. sumber daya produksi
5. Pasar berfungsi dalam pembentukan harga dapat dijumpai dalam bentuk
 - a. proses tawar menawar
 - b. proses pembelian barang
 - c. barang yang dijualbelikan
 - d. proses pembayaran

6. Pasar sebagai tempat promosi dapat dibuktikan dalam bentuk
- banyaknya iklan terpasang
 - tempat pembelian barang
 - banyaknya benda dijual
 - terjadi tawar menawar
7. Berikut merupakan syarat sebuah pasar, kecuali
- ada pembeli
 - ada penjual
 - ada barang yang diperjualbelikan
 - ada tempat untuk berjualan
8. Pembelian barang-barang tertentu secara on line yang sekarang banyak dilakukan pada kehidupan masyarakat modern merupakan contoh pasar
- internasional
 - abstrak
 - konkret
 - regional
9. Berdasarkan wilayah kegiatannya, bursa tenaga kerja merupakan contoh pasar
- abstrak
 - produksi
 - distribusi
 - nasional
10. Pekan Raya Jakarta termasuk jenis pasar
- abstrak
 - tahunan
 - regional
 - local

Menjodohkan antara gambar dengan jawaban yang tepat dengan cara klik dan ari garis lurus pada kotaknya.

Gambar	Jawaban
	Pasar Modern
	Pasar Tenaga Kerja
	Pasar Tradisional
	Pasar di Kabupaten Tegal
	Pasar Internasional