

# Lembar Kerja Peserta Didik (LKPD)



## SISTEM PERNAPASAN KELAS V

Oleh : Sinung Faisal Jauhari  
(23530447)





**Nama :**

**Kelas :**

### Video Sistem Pernapasan



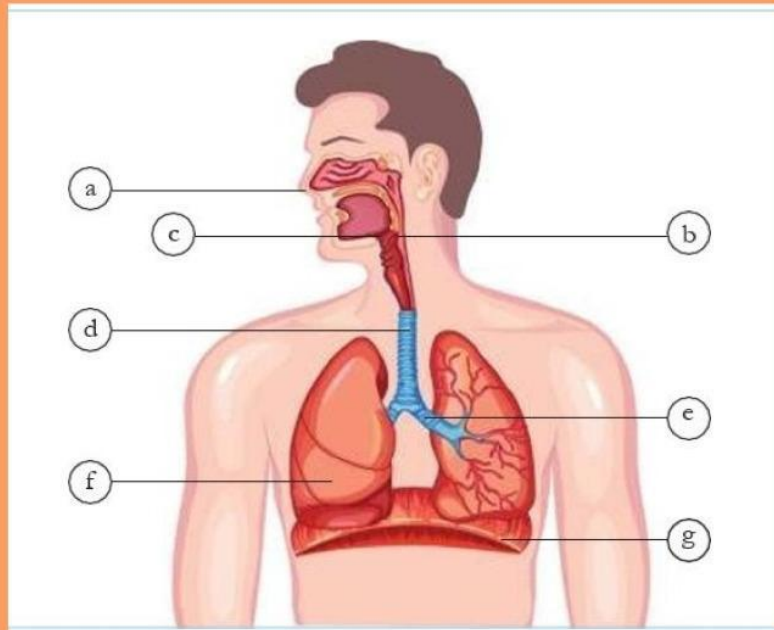
### Materi



1

## Petunjuk soal 1 :

Isilah kotak tersebut dengan nama organ pernapasan pada manusia



a

d


b

e

c

f

g




2

## Petunjuk soal 2 :

Tuliskan nama organ dan fiungsinya secara singkat yang telah kalian ketahui pada tabel di bawah ini

Gambar	Nama Organ	Fungsi
a		
b		
c		
d		
e		
f		
g		





3

### Petunjuk soal 3 :

Pada pembe;ajaran tadi, kalian sudah menonton video pembelajaran tentang kegiatan manusia bernafas, lalu bagaimana proses manusia itu bernafas?

---

---

---

---

