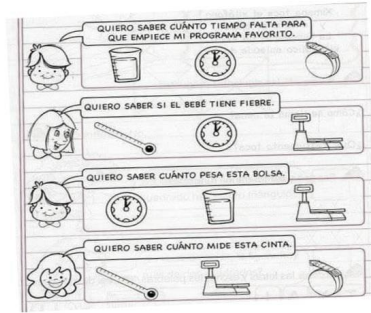


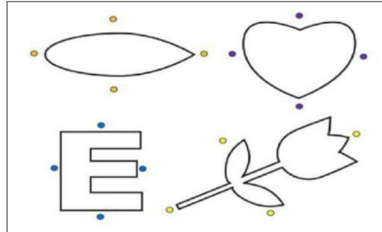
I Serie: Valor (8 puntos, 2 puntos c/u)

Instrucciones: marca que se utiliza para medir en cada situación.



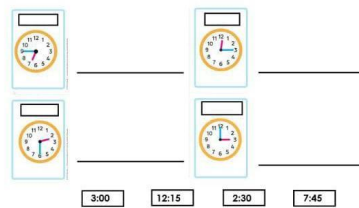
II Serie: Valor (2 puntos, 1/2 puntos c/u)

Instrucciones: une solamente los puntos que dividan de manera correcta la simetría de cada figura.



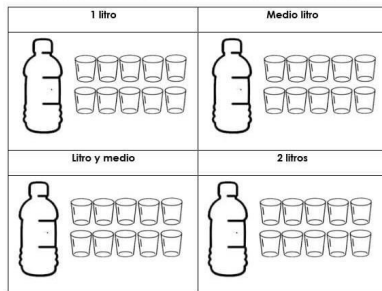
III Serie: Valor (8 puntos, 1 puntos c/u)

Instrucciones: arrastra la hora en números arriba de cada reloj y en la línea de la derecha coloca como se lee.




IV Serie: Valor (4 puntos, 1 puntos c/u)

Instrucciones: marca cuantos vasos necesitas para llenar cada litro de agua



V Serie: Valor (6 puntos, 1 puntos c/u)

Instrucciones: escribe el nombre de cada cuerpo geométrico.



VI Serie: Valor (6 puntos, 2 puntos c/u)

Instrucciones: realiza correctamente las operaciones.

