


KUIS Pertemuan 1

(KUIS-1)

- A. Topik : Jarak antartitik dalam ruang
- B. Alokasi Waktu : 7 menit
- C. Petunjuk Pengerjaan Kuis
1. Selesaikan pertanyaan yang terdapat di kartu domino kuning (bagian bawah).
 2. Pilih kartu domino untuk diletakkan di bingkai biru (soal dan jawaban saling berdekatan) dengan menyentuh pada salah satu kotak (bagian bawah) untuk kemudian digeser dan diletakkan pada kotak kosong (bagian atas).





Garis yang mewakili jarak antara titik potong diagonal bidang alas dengan titik tengah CG adalah ...

17

Garis yang mewakili jarak antara titik puncak limas dengan titik Q pada limas T.PQRS adalah ...



Tentukan jarak antara titik E dan D.

Finish

$10\sqrt{6}$

Start

$5\sqrt{3}$

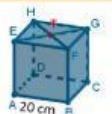
29

Garis yang mewakili jarak antara titik perpotongan garis TW dan VW dengan titik perpotongan garis PQ dan QR adalah ...



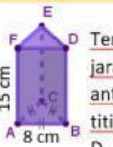
Tentukan jarak titik T ke F.

TQ



Tentukan jarak antara titik A dan T pada kubus di atas.

PQ



Tentukan jarak antara titik C dan D.

WQ