




TU NOMBRE:



Observa la secuencia de números en las banderas



Posición 1

Posición 2

Posición 3

Posición 4

¿Qué número se debe ubicar en la bandera de la posición 4?



32



30



36



33



Hace 3 años la mamá, de Francisco lo midió y marcó una raya en la pared de su casa. Este año hizo lo mismo y se dio cuenta que Francisco ha crecido 15 centímetros. Observa



Si la estatura de Francisco era 89 cm hace tres años, ¿cuál es su estatura ahora?



100cm.



103 cm





104 cm.






105 cm.



Observa la secuencia de puntos

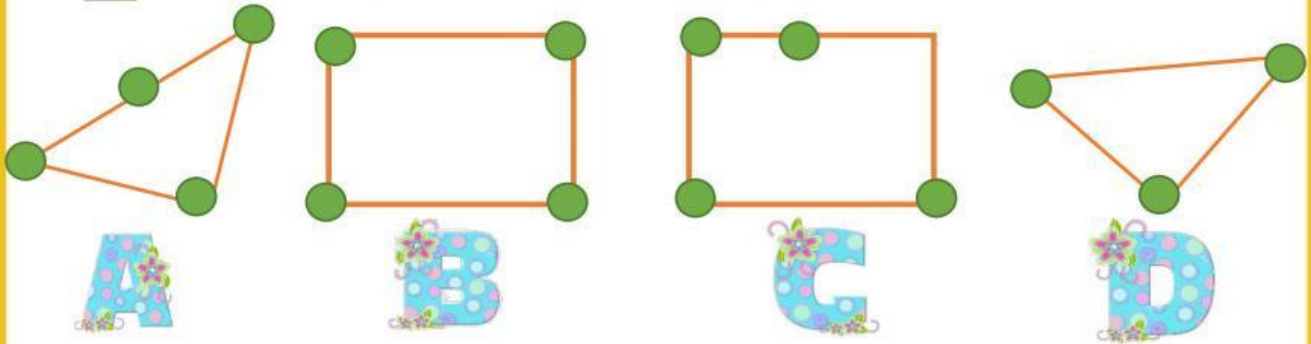


Siguiendo el patrón de aumentar cada vez 2 puntos, ¿cuál es la siguiente figura de la secuencia?






Marcela hizo una pintura en una hoja de forma triangular y, para ponerle un marco, señala primero con una bolita los vértices de la hoja. ¿cuál de las siguientes imágenes muestra la forma de la hoja señalando los



En el mapa de un explorador se muestra las distancias entre su campamento, una roca y un tesoro



¿Cuál es la distancia entre la roca y el tesoro?



150 metros



700 metros



100 metros



110 metros

ENNA ROSIO SALAZAR PINO

Docente

LIVEWORKSHEETS