

## LEMBAR KERJA PESERTA DIDIK (LKPD)

Materi : Pengetahuan Dasar Pemetaan dan Penginderaan Jauh

Nama : .....

### A. Petunjuk Belajar

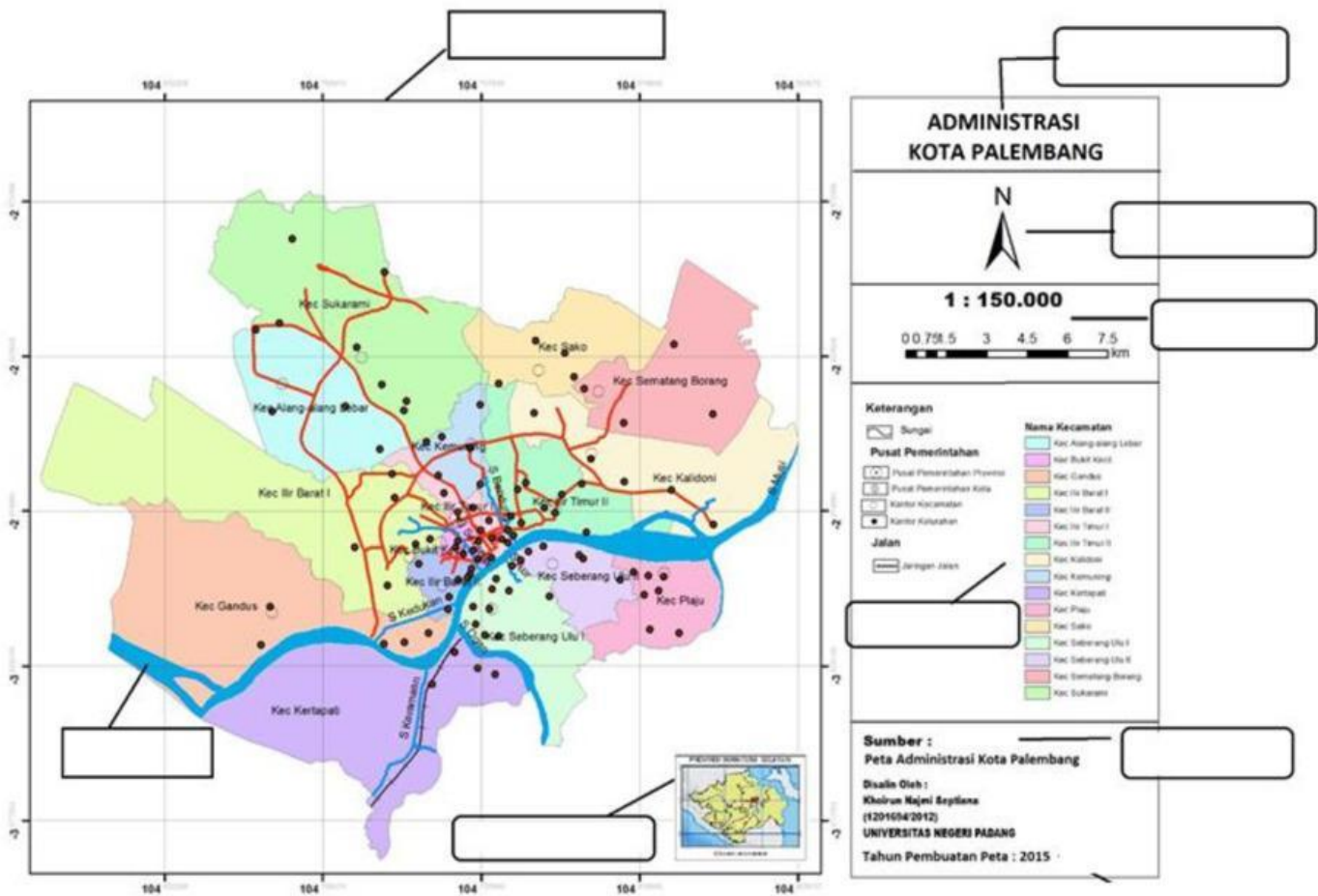
- Baca secara cermat buku ajar sebelum mengerjakan tugas
- Baca literatur lain untuk memperkuat pemahaman siswa
- Kerjakan setiap langkah sesuai tugas

### B. Materi



## C. TUGAS

1. Lengkapilah komponen-komponen peta di bawah ini!

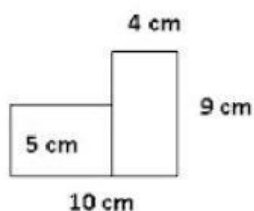


No	Komponen Peta	Keterangan
1		
2		
3		
4		
5		
6		
7		
8		

2. Jawablah Pertanyaan di bawah ini!

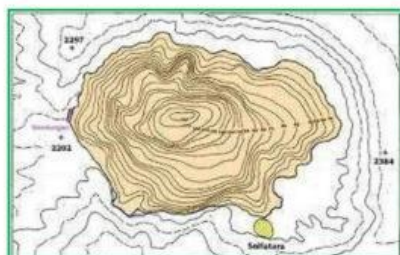
- 1) Rumah Ami berjarak  $3 \frac{1}{2}$  km dari sekolah. Di denah tertulis 5 cm. Maka skala yang harus digunakan ialah

- 2) Sebuah bangunan berbentuk seperti gambar, dengan skala 1 : 300. Luas sebenarnya bangun tersebut adalah ....



3. Cocokkanlah Gambar di bawah ini!

### GAMBAR PETA



### JENIS PETA

PETA TIMBUL

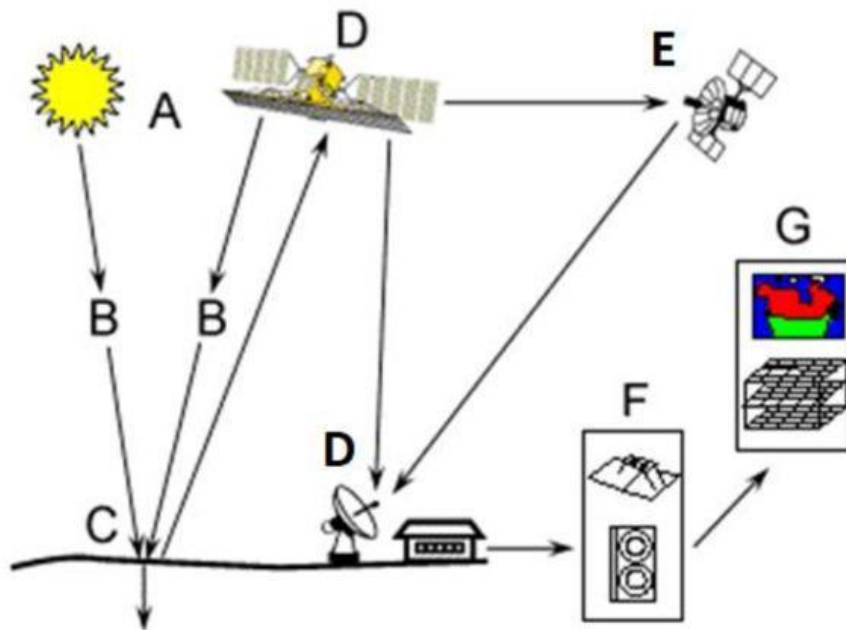
PETA TEMATIK

PETA SKALA SEDANG

PETA TOPOGRAFI

PETA KADASTER

4. Lengkapilah komponen-komponen penginderaan jauh di bawah ini!



No	Komponen Peta	Keterangan
A		
B		
C	OBJEK	
D		berfungsi untuk menerima dan merekam tenaga yang datang dari suatu objek
E		
F		
G		



5. Lengkapilah tabel di bawah ini dengan melihat tanda pada gambar dan sesuai dengan unsur-unsur dari penginderaan jauh!

No	Citra Penginderaan Jauh	Unsur-unsur PJ
1		TEKSTUR
2		
3		
4		

5



