

# Área de cuadrados y rectángulos


¡Ahora sin ayuda de la cuadrícula!

Calcula cuántos cuadros de  $\text{cm}^2$  podrás dibujar sabiendo los centímetros que miden los lados.

Calcula el área de los siguientes cuadrados y rectángulos

Área  $\text{cm}^2$


1 cm



5 cm


Área  $\text{cm}^2$

4 cm



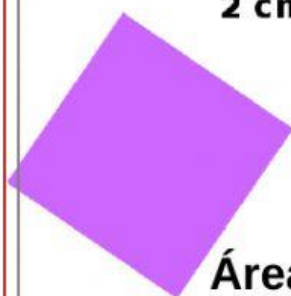
Área  $\text{cm}^2$

4 cm



3 cm

2 cm



Área

$\text{cm}^2$