

BAB VI

Indonesiaku Kaya Raya

Topik A : Bagaimana Bentuk
Indonesiaku?

5





Topik A : Bagaimana Bentuk Indonesiaku?

Nama : _____

Kelas : _____

No. Absen : _____

Tujuan Pembelajaran :

1. Menelaah kondisi geografis wilayah Indonesia sebagai negara kepulauan/ maritim dan agraris serta mengidentifikasi kekayaan alam.
2. Mengidentifikasi dan menunjukan kekayaan alam yang ada disekitarnya dan merefleksikannya terhadap kekayaan Indonesia.

Petunjuk Pengerjakan :

Kriteria soal 1 (textfield)

- Siswa menjawab secara singkat mengenai soal yang telah diberikan.


Kriteria soal 2 (single choice)

- Siswa menjawab soal dengan memilih jawaban yang sesuai dengan pertanyaan yang diajukan.

Kriteria Soal 3 (Chekboxes & select)

- Siswa mencentang jawaban yang tepat.

Kriteria soal 4 (speak)

- Siswa menjawab soal dengan merekam jawabannya dengan menekan tombol  dan secara otomatis akan merekam jawaban.



Topik A : Bagaimana Bentuk Indonesiaku?

Petunjuk Pengerjakan :

Kriteria soal 5

- Siswa menemukan kata mengenai bentuk indonesia melalui teka teki temu

Kriteria soal 6 (Drag)

- Siswa menempatkan kata sesuai dengan gambar yang telah disediakan.

Kriteria soal 7 (Join)

- Siswa menjodohkan antara gambar dan kata dengan benar.

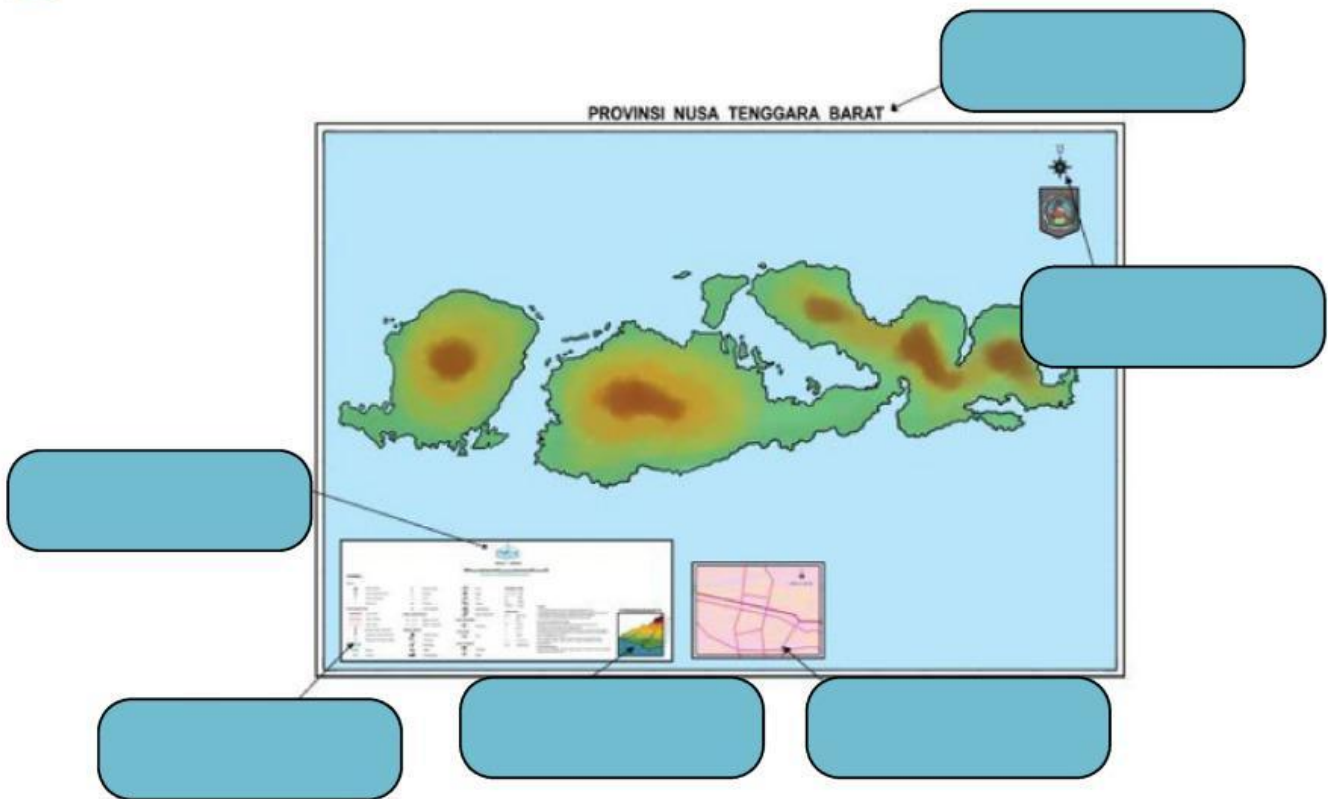




Mari Bermain

1

Lengkapilah kolom-kolom dibawah ini!



2

Sebagai alat bantu untuk menentukan arah mata angin dari peta.
Pengertian tersebut merupakan

3

Yang termasuk dalam informasi umum peta adalah..

Judul Peta

Wilayah

Skala

Legenda

Peta Arsip

Peta Sisipan





4

Apa yang pembicara jelaskan dalam rekaman suara dibawah ini

5

Temukan kata-kata dibawah ini yang masuk kedalam informasi umum peta

Tata Warna	Skala	simbolis	peta sisipan
kompas	corak	Simbol	Peta kecil
angin	judul peta	wilayah	arah
1 : 450.000	Gambar	Frame	alat

6

Kelompokkan data dibawah ini sesuai dengan letak geografis Indonesia

Negara Maritim

Negara Agraris

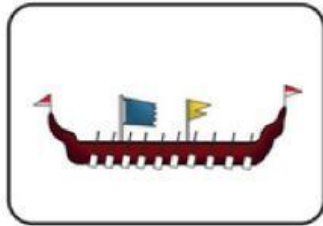
- 1.Sumber ikan dan makanan laut lainnya.
- 2.Memiliki wilayah daratan yang luas.
- 3.Tempat wisata laut atau wisata bahari.
- 4.memiliki sawah, ladang, dan kebun yang luas.
- 5.Energi alternatif, seperti pembangkit listrik tenaga angin.





7

Jodohkan gambar dibawah ini sesuai dengan nama alat budaya dari masyarakat maritim dan agraris.



Penumbuk Padi



Pasar Ikan



Perahu



Simak Video Pembelajaran Berikut :

