

Alunno \_\_\_\_\_ classe \_\_\_\_\_ data \_\_\_\_\_

## VERIFICA DI STORIA

1. In quale ERA vissero i dinosauri?

- ☐ primaria                      ☐ secondaria                      ☐ terziaria

2. Che cosa significa la parola DINOSAURO?

3. ☐ mammifero                      ☐ terribile lucertola                      ☐ aquila

4. I dinosauri :

- ☐ erano mammiferi                      ☐ deponevano le uova

5. Come vengono classificati i dinosauri?

- ☐ solo carnivori                      ☐ solo erbivori                      ☐ carnivori ed erbivori

6. Segna con una X le caratteristiche dei dinosauri CARNIVORI

<input type="checkbox"/> Si nutrivano di vegetali <input type="checkbox"/> Si nutrivano di carne	<input type="checkbox"/> unghie affilate <input type="checkbox"/> unghie poco affilate
<input type="checkbox"/> Denti piatti <input type="checkbox"/> Denti aguzzi	<input type="checkbox"/> testa enorme <input type="checkbox"/> coda grossa

## 7. Segna con una X le caratteristiche dei dinosauri ERBIVORI

<input type="checkbox"/> si nutrivano di carne <input type="checkbox"/> si nutrivano di vegetali	<input type="checkbox"/> unghie affilate <input type="checkbox"/> unghie poco affilate
<input type="checkbox"/> denti aguzzi <input type="checkbox"/> denti piatti	<input type="checkbox"/> coda grossa <input type="checkbox"/> testa enorme

## 8. I dinosauri BIPEDI si muovevano su:

- ☐ 2 zampe      ☐ 4 zampe

## 9. I dinosauri QUADRUPEDI si muovevano su:

- ☐ 2 zampe      ☐ 4 zampe

## 10. Sono esistiti dinosauri con le ali?


- ☐ sì      ☐ no

## 11. 65 milioni di anni fa, i dinosauri scomparvero. Segna con una X le ipotesi spiegate dagli scienziati.


- ☐ La temperatura si abbassò di molti gradi.  
☐ I dinosauri morirono mangiando piante velenose.  
☐ L'ambiente in cui vivevano cambiò.  
☐ Un grande asteroide cadde sulla terra e i dinosauri scomparvero tutti.

12. Scopri come si formarono i fossili. Numera i disegni da 1 a 3.  
 13. Completa il testo con le seguenti parole:

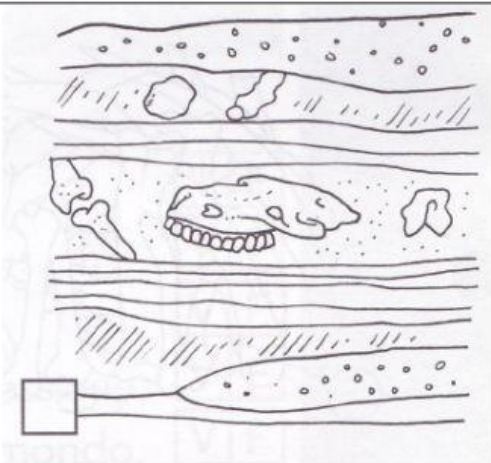
mare - ritrovamento - sassi  
 muore - fossile - fango - pietrificati



I movimenti che avvengono nel  
 sottosuolo permettono  
 il \_\_\_\_\_ dei resti  
 \_\_\_\_\_ poco sotto la  
 superficie del terreno.



Un animale \_\_\_\_\_ e il suo  
 corpo finisce in fondo al  
 \_\_\_\_\_.



I suoi resti vengono ricoperti  
 dal \_\_\_\_\_, dalla sabbia e  
 dai \_\_\_\_\_.  
 Lo scheletro assorbe i sali  
 minerali contenuti nel suolo e si  
 trasforma in \_\_\_\_\_,  
 cioè si pietrifica.