




FIGURAS 2D

Profesora Camila Gallardo – Matemática – 2° básico

1. Une cada figura con su nombre:



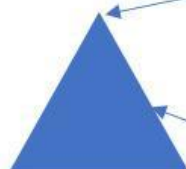
CÍRCULO

CUADRADO

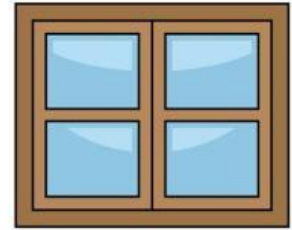
TRIÁNGULO

RECTÁNGULO

2. Observa las figuras y selecciona el nombre del elemento según corresponda:



3. Clasifica los objetos según su forma:



| CÍRCULO | TRIÁNGULO | CUADRADO |
|---------|-----------|----------|
| | | |