

Práctica I y II Ciclo E.G.B.A

Estudios Sociales

Este documento confidencial es propiedad del Ministerio de Educación Pública, su reproducción parcial o total está prohibida por la ley.

Instrucciones para realizar la prueba

A. **Materiales para realizar la prueba**

- ✓ Un cuadernillo que contiene únicamente ítems de selección.
- ✓ Una hoja para respuestas.
- ✓ Un bolígrafo con tinta azul o negra (no utilice marcador o pluma).
- ✓ Un corrector líquido (blanco).

B. **Indicaciones generales**

1. Escriba los datos que se le solicitan en el envés de la hoja para respuestas.
2. Solo se calificará lo que aparece en su hoja para respuestas.
3. En la hoja para respuestas, no altere ni realice correcciones en el recuadro que tiene impreso sus datos personales y código de barras. Utilice el espacio para observaciones.
4. No utilice los espacios correspondientes a identificación y tiempo que se encuentran en la hoja para respuestas, a menos que se le indique.
5. Apague teléfonos celulares, aparatos reproductores de música o cualquier artefacto electrónico que pueda causar interferencia durante la aplicación de la prueba.
6. No utilice audífonos.
7. No use gorra ni lentes oscuros.
8. El folleto de la prueba debe permanecer doblado mientras lo esté resolviendo, con excepción de la prueba de idioma extranjero y Matemáticas.
9. Estas instrucciones no deben ser modificadas por ningún funcionario que participe en el proceso de administración de la prueba.

C. **Para responder los ítems de selección en el cuadernillo**

1. Antes de iniciar la prueba, revise que el cuadernillo esté bien compaginado, sin hojas manchadas y que contenga la totalidad de los ítems indicados en el encabezado de la prueba. Debe avisar inmediatamente al delegado de aula en caso de encontrar cualquier anomalía.
2. Utilice el espacio en blanco al lado de cada ítem para realizar cualquier anotación, si lo considera necesario. No se permiten hojas adicionales.
3. Lea cada enunciado y sus respectivas opciones. Seleccione y marque en el cuadernillo la opción que es correcta para cada caso. Recuerde que de las cuatro opciones (A-B-C-D) que presenta cada ítem, solo una es correcta.

D. **Para rellenar los círculos en la hoja para respuestas**

1. **Rellene completamente con bolígrafo el círculo correspondiente a la letra seleccionada** para cada ítem en la hoja para respuestas. Solo debe rellenar un círculo como respuesta para cada ítem. Por ejemplo:



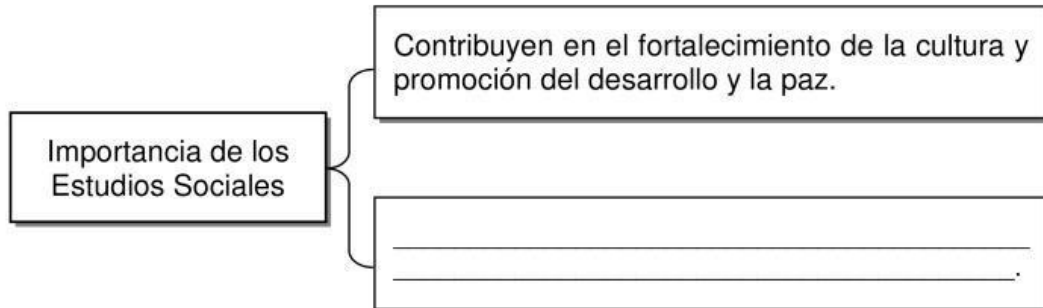
2. Si necesita rectificar la respuesta, utilice corrector líquido blanco sobre el círculo por corregir y rellene con bolígrafo de tinta negra o azul la nueva opción seleccionada. Además, en el espacio de observaciones de la hoja para respuestas debe anotar y firmar la corrección efectuada (**Ejemplo: 80=A, firma**). Se firma solo una vez al final de todas las correcciones.

W:\AVV\Pruebas 2017\Instrucciones-Pruebas-2017.doc

SELECCIÓN ÚNICA

55 ÍTEMS

1) Lea el siguiente esquema:






¿Con cuál opción se completa correctamente el esquema anterior?

- A) Limitan el desarrollo integral del ser humano
- B) Forman en los ciudadanos actitudes negativas y antivalores
- C) Incentivan en las personas malestar y descontento hacia la sociedad
- D) Permiten el desarrollo de capacidades para solucionar los problemas cotidianos

2) Lea la siguiente información:

Manifestaciones artísticas del ser humano

		
<p>Pirámides de Egipto</p>	<p>Trípode indígena de Costa Rica</p>	<p>Coliseo romano</p>

De acuerdo con la información anterior, los Estudios Sociales son importantes para la construcción de un aprendizaje más significativo porque

- A) constituyen un medio que permite conocer la vida de las sociedades humanas.
- B) desconocen los aportes y avances de la humanidad a través del tiempo.
- C) representan la única forma de estudiar las culturas de la antigüedad.
- D) ignoran los acontecimientos históricos sucedidos en el presente.

3) Lea la siguiente información:

Ubicación hemisférica de Costa Rica




1. Según el paralelo del ecuador se localiza en el hemisferio _____.

2. Según el meridiano de Greenwich se localiza en el hemisferio _____.

De acuerdo con la información anterior, ¿con cuál opción se completan correctamente los recuadros 1 y 2, respectivamente?

- A) norte - oeste
 - B) este - norte
 - C) sur - oeste
 - D) sur - este
- 4) ¿Cuál es una característica común que comparte Costa Rica con el resto de países centroamericanos?
- A) Solo presentan población mestiza.
 - B) Corresponden a territorios ubicados en América Insular.
 - C) Obtuvieron su independencia el 15 de setiembre de 1821.
 - D) Se ubican en la zona climática templada o de latitudes medias.

5) Observe la siguiente imagen:



De acuerdo con la imagen anterior, ¿cuál es un valor que debe promover Costa Rica como parte de la ciudadanía global?

- A) Aplicar los derechos humanos por sectores a la población
- B) Trabajar en pro de la conservación ambiental
- C) Consolidar las prácticas antidemocráticas
- D) Promover el irrespeto a la diversidad

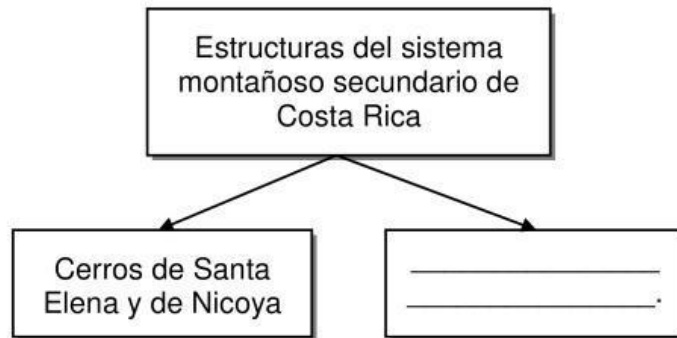
6) Lea la siguiente información

Forma del relieve que posee terrenos planos e inclinados entre montañas, que por lo general, son recorridos por un río principal. En Costa Rica son de origen fluvial, debido a la acción de los ríos sobre el terreno.

¿Qué nombre recibe la forma del relieve a la que hace referencia la información anterior?

- A) valles
- B) sierras
- C) llanuras
- D) cordilleras

7) Lea la siguiente información:



¿Con cuál opción se completa correctamente el esquema anterior?

- A) Cerros Salsipuedes y de la península de Burica
- B) Montes del Aguacate y cerros de Platanar
- C) Cerros de Abangares, Cedral y Miramar
- D) Complejo Tenorio y Montezuma

8) Lea la siguiente información:

- La Gran Área Metropolitana de Costa Rica se asienta en esta forma de relieve.
- Concentra la mayor cantidad de habitantes del país.
- Se divide en dos secciones: Occidental y Oriental.

La información anterior identifica algunas características del valle

- A) del Tempisque.
- B) de El General.
- C) de Coto Brus.
- D) Central.

9) ¿Cuál es una actividad económica que se desarrolla en las llanuras del Caribe de Costa Rica?

- A) Agricultura de plantación: banano, cacao y plátano
- B) Cultivo de granos básicos, macadamia y cítricos
- C) Plantaciones de café, fresas y hortalizas
- D) Producción de caña de azúcar y maní

10) Lea las siguientes características:

1. Desembocan en el río Tempisque y el océano Pacífico.
2. Vierten sus aguas en el lago de Nicaragua y el río San Juan.
3. En su recorrido atraviesan extensas llanuras, por ejemplo la Estrella.
4. Sus afluentes son cortos, profundos y torrentosos, por la cercanía a las montañas.

¿Con cuál número de los anteriores se identifica una característica de la subvertiente Norte de Costa Rica?

- A) 1
- B) 2
- C) 3
- D) 4

11) Lea el siguiente texto:

Este tipo de región integra elementos tales como: cantidad de población, rasgos culturales, actividades productivas y utilización de los suelos, entre otros.

¿A cuál tipo de región hace referencia el texto anterior?

- A) Políticas
- B) Naturales
- C) Funcionales
- D) Socioeconómicas

12) Observe el siguiente croquis del mapa de Costa Rica:



En el croquis anterior, ¿cuál región se identifica con el número 1?

- A) Central
- B) Huetar Norte
- C) Pacífico Central
- D) Huetar Atlántica

13) Lea la siguiente información:

- Se ubica al sureste del país.
- San Isidro de El General es la principal ciudad de la región.
- Limita al este con Panamá y al norte con la cordillera de Talamanca.
- El Deposito Libre de Golfito representa una importante fuente de empleo.

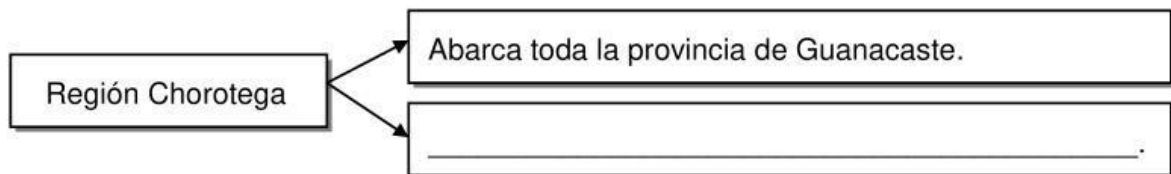
¿A cuál región socioeconómica de Costa Rica hace referencia la información anterior?

- A) Brunca
- B) Chorotega
- C) Huetar Norte
- D) Pacífico Central

14) ¿Cuál es una problemática que enfrentan, cotidianamente, los habitantes de la región Central de Costa Rica?

- A) Congestionamiento vial
- B) Cobertura de servicios básicos
- C) Existencia de grandes latifundios
- D) Reforestación y sequías prolongadas

15) Lea el siguiente esquema:



¿Con cuál opción se completa correctamente el esquema anterior?

- A) El turismo se practica en los alrededores del volcán Arenal
- B) Desarrolla una activa industria siderúrgica y textilera
- C) Presenta llanuras como la del río Tempisque
- D) Ciudad Quesada es su centro regional


16) Lea los siguientes aspectos:

1. Es el estado de la atmósfera en un lugar y momento determinado.
2. Las condiciones de la atmósfera pueden variar en cualquier momento.
3. Se determina mediante observaciones científicas por períodos de 25 a 30 años.
4. Corresponden al conjunto de condiciones climáticas que predominan en una región determinada.

¿Con cuáles números de los anteriores se identifican dos aspectos del concepto de clima?

- A) 1 y 2
- B) 1 y 4
- C) 2 y 3
- D) 3 y 4

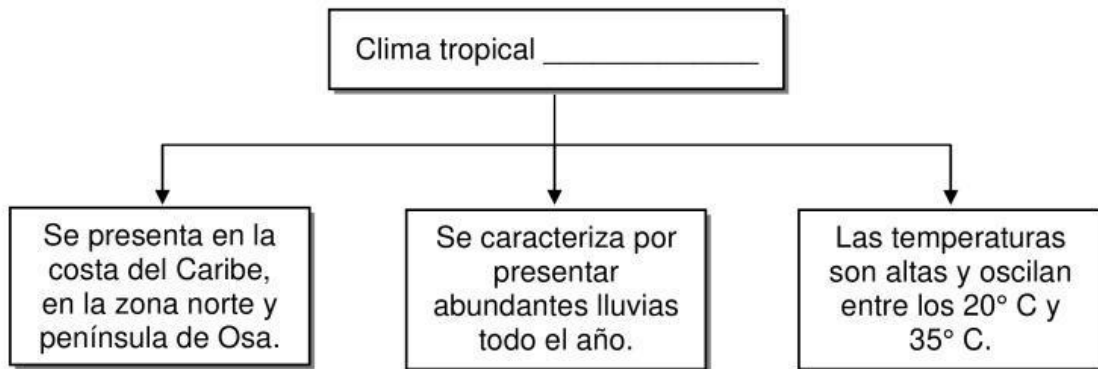
17) Lea la siguiente información:

<ul style="list-style-type: none"> • Se forman en las nubes. • Se miden con el pluviómetro. • Es parte del ciclo hidrológico. • Se manifiestan en forma líquida o sólida. 	 <p>Pluviómetro</p>
---	--

¿Cuál elemento del clima se identifica en la información anterior?

- A) Vientos
- B) Precipitaciones
- C) Presión atmosférica
- D) Humedad atmosférica


18) Lea el siguiente esquema:



¿Con cuál opción se completa correctamente el esquema anterior?

- A) húmedo
- B) subalpino
- C) de montaña
- D) muy húmedo

19) Lea la siguiente información:

<p>Es el factor del clima relacionado con la distancia vertical de un punto de la superficie terrestre con respecto al nivel del mar.</p>	
---	--

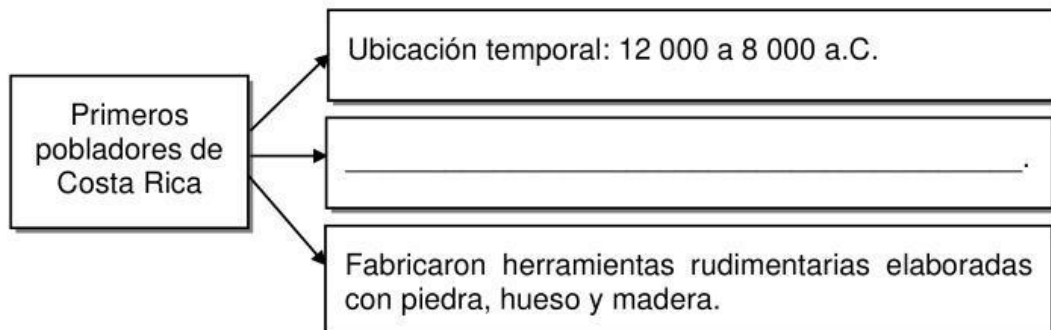
¿Cuál es el factor climático al que se refiere la información anterior?

- A) Altitud
- B) Latitud
- C) Extensión continental
- D) Posición del eje montañoso

20) ¿Cuál es una característica del clima tropical seco en Costa Rica?

- A) Presenta altos niveles de humedad
- B) Vegetación poco tupida y árboles de copas anchas
- C) En las partes altas prevalece el bosque tipo páramo
- D) Predominan especies como los quetzales y los colibríes


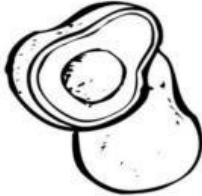


21) Lea el siguiente esquema:



¿Con cuál opción de completa correctamente el esquema anterior?

- A) Practicaron la caza de animales y la recolección de frutos
- B) Construyeron las primeras aldeas
- C) Creían en una sola divinidad
- D) Realizaban ritos funerarios

22) Lea la siguiente información:

1. Maíz	2. Aguacate	3. Vid	4. Trigo
			

¿Con cuáles de los números anteriores se identifican dos productos que dieron origen a la agricultura de semillas de los primeros pobladores de Costa Rica?

- A) 1 y 2
- B) 1 y 4
- C) 2 y 3
- D) 3 y 4

23) Lea los siguientes enunciados:

1. Se desarrolló la agricultura.
2. Apareció la cerámica bicolor.
3. Los grupos se organizaban en bandas.
4. Habitaban en cuevas rocosas o a cielo abierto.

¿Con cuáles números de los anteriores se identifica una característica de los primeros asentamientos humanos de carácter permanente en Costa Rica?

- A) 1
- B) 2
- C) 3
- D) 4

- 24) Las confederaciones de cacicazgos como forma de control sociopolítico, surgieron durante el periodo de la historia antigua de Costa Rica denominado
- A) cazadores y recolectores.
 - B) cacicazgos complejos.
 - C) primeros pobladores.
 - D) cacicazgos tardíos.
- 25) ¿Cuál fue la región arqueológica de Costa Rica que recibió influencia del área mesoamericana y abarcó gran parte del territorio de Guanacaste?
- A) Gran Nicoya
 - B) Chiriquí
 - C) Central
 - D) Diquís
- 26) ¿Cuál es un aspecto relacionado con la visión de mundo de los pueblos originarios de Costa Rica?
- A) Desarrollaron una visión armoniosa con la naturaleza
 - B) Consideraron al sol como el único ser supremo
 - C) Creyeron en la reencarnación de los muertos
 - D) Practicaron el canibalismo
- 27) ¿Cuál es una manifestación artística de los pueblos originarios de Costa Rica?
- A) Construcción de grandes pirámides
 - B) Uso del oro para la elaboración de figuras de animales
 - C) Grabados de leyendas y narraciones en paredes y cavernas
 - D) Elaboración de instrumentos musicales por medio de técnicas industriales