

ESTIMADOS ESTUDIANTES:
CON ESTA ACTIVIDAD REVISAREMOS
CONOCIMIENTOS PREVIOS
UTILIZANDO HABILIDADES BÁSICAS.



UNIDAD EDUCATIVA
CRISTO REY
PORTOVEJO - ECUADOR



Diagnóstico 1

8º EGB
2021-2022

1. Relaciona correctamente cada mecanismo de explotación de mano de obra indígena con su definición.

1. las encomiendas

Un grupo indígena aportaba un número determinado de trabajadores durante varios meses al año, muchas veces, a cambio de un salario.

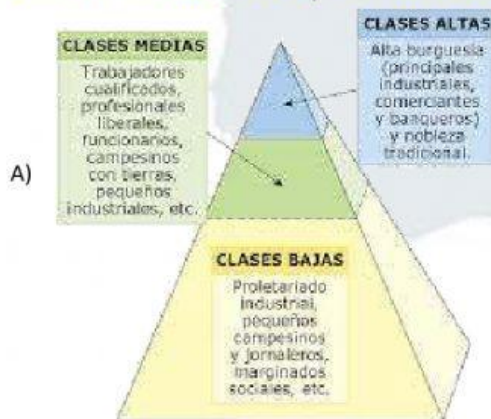
2. el obraje

Consistía en entregar a un español un grupo de indígenas, para que les diera trabajo, los protegiera y los convirtiera en cristianos.

3. la mita

Se empleaba en la producción de telas y franelas, utilizadas en la confección de vestimentas.

2. Observa las diferentes pirámides sociales y marque la opción correcta en la tabla.

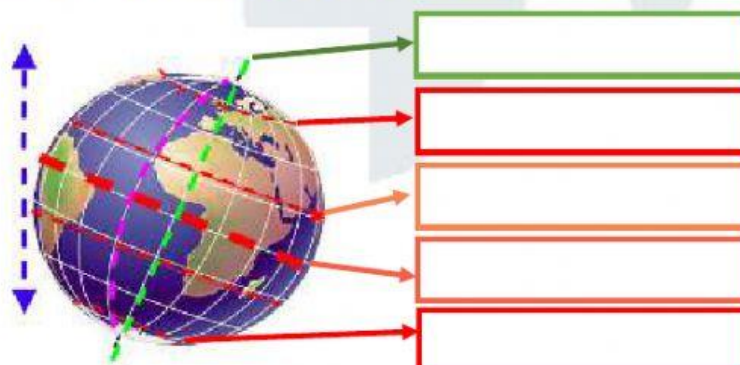


Momento histórico al que pertenecen:

	A	B
1)	S.XV	S.XX
2)	S.XX	S.XVII
3)	S. XVII	S. XXI


3. Ubique correctamente el nombre de las líneas imaginarias de la esfera terrestre.

- Línea Equinoccial
- Trópico de Cáncer
- Círculo Polar Ártico
- Círculo Polar Antártico
- Eje de rotación



4. Ordene en la línea del tiempo los siguientes acontecimientos:

Época del Auge del banano. (1945-1965)	Abolición de la esclavitud en Ecuador. (1851)	Se crea la Compañía de Jesús. (1540)	Batallas de Independencia. (1809-1820)	Creación de la Real Audiencia de Quito. (1563)	Revolución Francesa. (1789)	Se crea la República del Ecuador. (1830)
--	---	--------------------------------------	--	--	-----------------------------	--



5. Observa la tabla y selecciona la alternativa correcta.

	PROVINCIA	POBLACIÓN
1	Azuay	657.073
2	Bolívar	185.400
3	Pichincha	2'626.528
4	Carchi	167.208
5	Loja	443.628

Ordenando de mayor a menor la población de las provincias:		
	A	5 - 3 - 2 - 1 - 4
	B	3 - 1 - 5 - 2 - 4
	C	4 - 2 - 1 - 3 - 5
	D	1 - 4 - 2 - 5 - 3

6. Reflexione acerca de la situación y marque la opción correcta:

a) El volcán Tungurahua sigue expulsando lava y ceniza hacia los poblados más cercanos. Por esta razón, muchas personas tienen infecciones respiratorias. Las personas afectadas deben acercarse a un lugar cercano para ser atendidas. Este lugar sería:

A. Un hospital en Portoviejo.
B. Una clínica en Guayaquil.
C. El centro de salud en Baños
D. El dispensario médico en Quito.

b) Con la llegada de los europeos a América se produjo un hecho étnico-cultural importante. Éste fue:

A. El intercambio de conocimientos y respeto a nuestros nativos.
B. La mezcla racial entre europeos y nativos americanos.
C. La venida de los españoles con sus familias.
D. El reconocimiento de nuevas tierras y respeto a sus riquezas.

7. Escriba los nombres correctos de los continentes, subcontinentes y océanos indicados:

