


# RESUELVO LO APRENDIDO

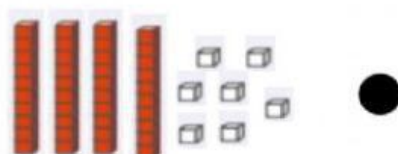
Une según correspondan:




47



407



154



600

111

Doscientos

Cien

Setecientos

Ochocientos

LIVEWORKSHEETS

600

200

100

800

700



¡USTEDES  
PUEDEN NIÑOS  
Y NIÑAS!

REALMENTE  
SON MUY  
INTELIGENTES



LIVEWORKSHEETS

LIVEWORKSHEETS

ARRASTRA la figura donde corresponde.

1

Figura tridimensional



Figura Bidimensional



2

Figura tridimensional

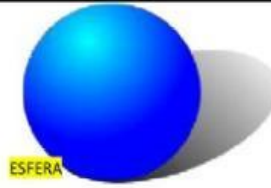
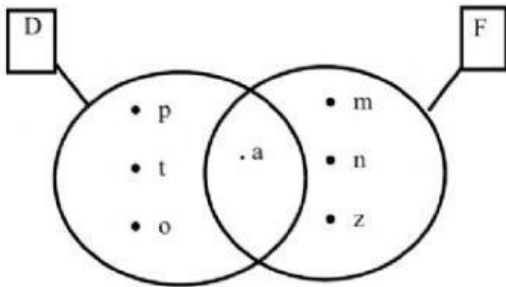


Figura Bidimensional

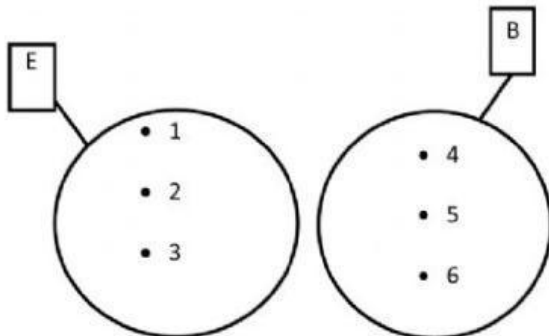


LIVEWORKSHEETS

Hallar la INTERSECCIÓN del D y F



Hallar la UNIÓN del E y B



LIVEWORKSHEETS

LIVEWORKSHEETS

Gotze tiene 60 juguetes y su amigo Mathias tiene el doble que él. ¿Cuántos juguetes tiene Mathias?



Valentina recibió 80 caramelos y su amiga Kalesi recibió el doble que ella. ¿Cuántos caramelos recibió Kalesi?

