
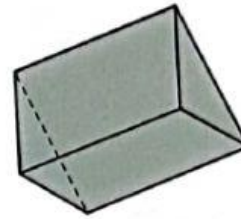


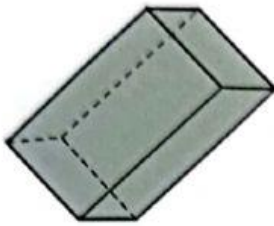



- ① Clasifica los prismas y pirámides según su base.  
Ten en cuenta que puede haber figuras que no lo sean.



- ② Clasifica los cuerpos redondos que veas en esta composición.



- ③ Tacha las oraciones que son falsas.

- Una pirámide triangular tiene más aristas que vértices.
- Un prisma triangular tiene más aristas que vértices.
- Un prisma no puede tener todas sus caras iguales.
- Una pirámide no puede tener más de una cara triangular.
- Los radios de un cono miden todos lo mismo.
- Los conos y las pirámides tienen una única base.