

1

Ordenemos números

1. Marta y David tiran varios dados para escribir un número.

- El dado rojo indica cuántas cifras debe tener el número.
- El dado negro indica la cantidad de ceros que contiene el número.
- El dado azul indica la cifra con la que comienza el número.
- El dado verde indica la cifra con la que acaba el número.
- El dado amarillo indica la suma de todas las cifras del número.


a) Marta lanzó el dado rojo y el dado azul.



• ¿Cuál es el número más pequeño que puede escribir?

• ¿Y el más grande?

b) David lanzó el dado rojo y el dado verde.



• ¿Cuál es el número más pequeño que puede escribir?

• ¿Y el más grande?


c) Marta ahora lanzó el dado amarillo y el dado negro.



• ¿Cuál es el número más pequeño que puede escribir?

• ¿Y el más grande?

d) David ahora lanzó el dado negro y el dado verde.



• ¿Cuál es el número más pequeño que puede escribir?

• ¿Y el más grande?

Fecha:

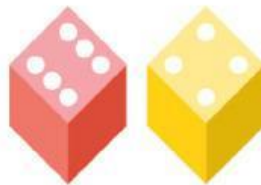
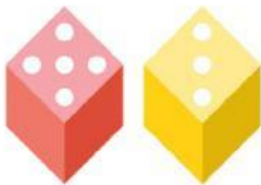


e) Indica, en cada caso, cuál de los dos amigos escribirá el número más grande:

Marta

David

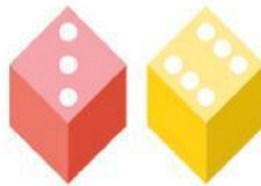

• Respuesta:



Marta

David

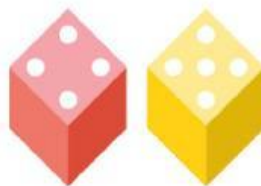
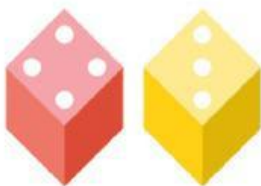
• Respuesta:



Marta

David

• Respuesta:



Marta

David

• Respuesta:

