












## Тема: Натуральні числа

Запишіть цифрами число:

- 1) сорок шість мільярдів чотириста п'ятдесят сім мільйонів сімсот двадцять сім тисяч триста вісімдесят вісім; 
- 2) шістсот тридцять два мільярди двісті чотири мільйони тридцять п'ять тисяч сорок сім; 
- 3) сто п'ять мільярдів п'ятсот тридцять дев'ять тисяч сто; 
- 4) тридцять мільярдів двадцять тисяч дев'яносто; 
- 5) вісім мільярдів сім мільйонів п'ятнадцять тисяч чотирнадцять; 
- 6) один мільярд дві тисячі два. 

Запишіть число, яке:

- 1) на 1 менше від найменшого трицифрового числа; 
- 2) на 4 більше за найбільше трицифрове число; 
- 3) на 5 менше від найменшого п'ятицифрового числа; 
- 4) на 6 більше за найбільше шестицифрове число; 
- 5) на 7 більше за найменше восьмицифрове число. 

За три дні коваль Вакула виготовив 432 підкови. Скільки підків він виготовить за 5 днів, працюючи так само завзято?

*Скільки підков робив коваль Вакула щодня?*

*Скільки Вакула зробить підков за інші 5 днів?*

Назва «Україна» вперше згадується в Київському літописі (за Іпатіївським списком) під 1187 роком на означення Переяславської, Київської і Чернігівської земель. Скільки років минуло від першої літописної появи назви «Україна»?

*Згадай, який зараз рік:*

*Скільки років минуло після першого згадування назви «Україна»?*

▲ У продуктовий магазин завезли 15 ящиків бананів, 10 ящиків персиків та 8 ящиків ківі. Усі ящики однакової маси. Усього до магазину завезли 231 кг фруктів.



- 1) Скільки кілограмів фруктів у кожному ящику?
- 2) Скільки всього кілограмів персиків завезли до магазину?
- 3) Скільки всього кілограмів ківі завезли до магазину?
- 4) На скільки більше кілограмів бананів, ніж ківі, завезли в магазин?

*У комірках впишіть відповіді без одиниць розмірності*

☀ Запишіть цифрами числа, що трапляються в тексті:  
«Дніпро — третя за довжиною річка Європи після Волги й Дунаю, має найдовше русло в межах України. Довжина Дніпра в природному стані становила дві тисячі двісті вісімдесят п'ять кілометрів, тепер (після побудови каскаду водосховищ, коли в багатьох місцях випрямили фарватер) — дві тисячі двісті один кілометр; у межах України — дев'ятсот вісімдесят один кілометр. Поділяється на три частини: довжина верхньої течії (від витoku до міста Києва) становить тисячу триста двадцять кілометрів, довжина середньої частини (від Києва до Запоріжжя) — п'ятсот п'ятдесят кілометрів, а довжина нижньої частини (від Запоріжжя до гирла) — триста двадцять шість кілометрів.



★ Натуральне число позначили буквою  $a$ . Заповніть таблицю 3.

Таблиця 3

$a$	15	101				
$a + 1$			54	235		
$a - 1$					64	419

◆ Знайдіть закономірність і запишіть два наступні числа в кожному ряді:

1) 1, 3, 5, 7, ...;

2) 2, 4, 6, 8, ...; ...;

3) 5, 12, 19, 26, ...;

4) 2, 10, 50, 250, ...;

5) 800, 400, 200, 100, ...;

6) 3, 7, 15, 31, ...

*Дякуємо за виконання завдання!*