











- Colocar el nombre de notas y marcar si el movimiento en cada compás es ascendente o descendente



- Escribir en el pentagrama las notas pedidas con la figura rítmica indicada abajo (arrastrar las figuras hacia los lugares seleccionados)

							
Do-La	Fa-La	Sol-Sol	Si-La	Mi-Do	Fa-Mi	Re-Si	Si-Re

							
							
Mi-Mi	La-Do	La-Sol	Sol-Si	Re-La	Do-Fa	Si-Re	Fa-Re

- Escribir el nombre de las notas que aparecen en las siguientes partituras

