



**PEMERINTAH KABUPATEN SINJAI
DINAS PENDIDIKAN
SD NEGERI 87 MANIPI**

Alamat : Jl.Persatuan Raya No.158A,Manipi,Kec.SinjaiBarat

PENILAIAN TENGAH SEMESTER (PTS) TAHUN PELAJARAN 2023/2024

Mata pelajaran : Tematik

Tema : 1 (Organ Gerak Hewan dan Manusia)

Kelas : V (Lima)

Nama :

NIS :

Mapel	KD	No. Soal	Nilai	Ketuntasan	TTD Guru	TTD Orang Tua
PPKn	3.1	1, 12, 13		Tuntas / Remedial		
B.Indo	3.1	4, 5		Tuntas / Remedial		
IPA	3.1	3, 6, 7		Tuntas / Remedial		
IPS	3.1	8, 9, 10, 11		Tuntas / Remedial		
SBdP	3.1	2, 14, 15		Tuntas / Remedial		

Jawablah pertanyaan di bawah ini dengan baik dan benar.

- Contoh sikap yang sesuai dengan sila pertama yaitu....
 - menjalankan ibadah sesuai kepercayaan agama masing-masing.
 - melakukan bakti sosial.
 - melaksanakan ronda malam dilingkungan tempat tinggal.
 - membantu teman yang terjatuh dari sepeda.
- Berdasarkan gambar di samping, termasuk gambar ilustrasi jenis...
 - cerita bergambar
 - komik
 - cover
 - karikatur
- Berdasarkan gambar di samping, untuk dapat bergerak tulang dan otot harus saling bekerja sama yang dinamakan ...
 - alat gerak aktif
 - alat gerak pasif
 - sistem gerak
 - Karikatur



Bacaan untuk nomor 4 dan 5

Bersepeda

Salah satu kegiatan yang disukai Beni saat hari libur adalah bersepeda menyusuri jalan pedesaan. Udara di pedesaan masih segar karena masih banyak pohon dan masih sedikit polusi. Kegiatan Beni ini tentunya dapat bermanfaat bagi kesehatan.

Dengan bersepeda rutin, semua organ gerak yang ada di tubuh dapat bekerja sebagaimana mestinya. Coba perhatikan, pernahkah badanmu terasa pegal dan kaku setelah duduk diam beberapa saat? Ya, karena pada saat duduk diam dalam waktu yang lama, organ-organ gerak pada tubuh tidak bekerja sebagaimana mestinya.

Setelah mengayuh sepedanya beberapa saat, tibalah Beni di sebuah kebun sayur. Beni senang sekali. Ladang sayur luas terbentang laksana permadani hijau. Tanah yang semula dicangkul, dipupuk, dan dibuat bedeng, kini telah tertutupi sayur mayur yang siap dipanen. Yang terlihat hanyalah warna hijau.

Beni pun bergegas turun dari sepedanya dan menghampiri Pak Anto. Pak Anto adalah pemilik ladang sayuran. Pak Anto dibantu beberapa orang dalam mengerjakan ladangnya.

"Selamat pagi, Pak Anto. Sedang sibuk ya, Pak?" sapa Beni ramah.

"Selamat pagi, Beni. Iya Beni, bapak sedang memanen sawi dan selada," jawab pak Anto.

“Bolehkah saya membantu, Pak?” pinta Beni.

“Oh, tentu saja boleh. Kebetulan sekali, ada satu karyawan Bapak yang sedang sakit. Jadi bapak masih kekurangan orang untuk memanen semua sayur ini,” jawab Pak Anto.

4. Menjodohkan (berilah garis dari pasangan pertanyaan dengan jawaban yang sesuai !)

Pertanyaan	Garis		Jawaban
1. Apa kegiatan yang disukai Beni saat hari libur ?	●	●	a. Karena salah satu karyawan Pak Anto Sakit
2. Siapa yang ditemui Beni saat bersepeda menyusuri Ladang ?	●	●	b. di Kebun sayur
3. Dimana Beni bertemu dengan Pak Anto ?	●	●	c. bersepeda menyusuri jalan pedesaan
4. Mengapa Pak Anto bersedia dibantu oleh Beni	●	●	d. Pak Anto



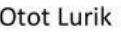
5. Menjodohkan (berilah garis dari pasangan soal dengan jawaban yang sesuai !)

Soal	Garis		Jawaban
1. Ide pokok adalah.....	●	●	a. ide pokok
2. Gagasan utama atau ide pokok terletak di	●	●	b. gagasan yang menjadi dasar sebuah paragraf
3. Di dalam kalimat utama terdapat.....	●	●	c. satu
4. Di dalam sebuah paragraf hanya terdapat ide pokok.	●	●	d. awal dan akhir paragraf.

6. Berilah tanda (√) pada kolom benar atau salah yang dianggap sesuai dengan pernyataan .

Pernyataan	Benar	Salah
1. Ikan, organ gerakannya adalah sirip dan ekor yang berfungsi untuk mendorong gerakan dalam air dan juga sebagai penyeimbang agar tubuhnya tetap dalam keadaan tegak.		
2. Katak, organ gerakannya adalah otot perut yang berfungsi untuk membantu berpindah tempat dengan meliuk-liuk.		
3. Burung, organ gerakannya adalah sayap yang berfungsi untuk mendorong angin sehingga bisa terbang		
4. Ular, organ gerakannya adalah kaki yang berfungsi untuk melompat sedangkan dua kaki di depan berfungsi sebagai penahan tubuh saat mendarat.		

7. Berikan tanda (✓) pada kolom benar atau salah yang dianggap sesuai gambar dengan nama ototnya !.

Gambar		Benar	Salah
1.	 		
2.	 		
3.	 		

Isian nomor 8 – 11

8. Perhatikan gambar berikut!



Jenis pekerjaan penduduk yang sesuai pada gambar di samping adalah dan

- 9.



Gambar di samping, merupakan pulau yang memiliki banyak suku. Diantaranya Sukudan

- 10.



Jenis pekerjaan yang memanfaatkan sumber daya alam daerah tersebut adalahdan

- 11.



Berdasarkan gambar di samping, tarian tersebut berasal dari daerah

Uraian nomor 9 – 10

12. Tuliskan tiga sikap yang sesuai dengan sila 2, "kemanusiaan yang adil dan beradab dalam Pancasila" !

.....

.....

.....

.....

13. Berdasarkan gambar di samping, tuliskan 3 sikap yang terkandung pada sila tersebut !



.....

.....

.....

.....

.....

14. Tuliskan tiga langkah membuat gambar ilustrasi !

.....

.....

.....

.....

15. Tuliskan 4 corak gambar cerita atau ilustrasi !

.....

.....

.....

.....

.....

**** SELAMAT BEKERJA****