

LEMBAR KERJA PESERTA DIDIK

Kelas: V (Lima)
Mata Pelajaran: Matematika
Materi: Penyajian Data



Anggota Kelompok:

- 1.....
- 2.....
- 3.....
- 4.....

Tujuan Pembelajaran

Peserta didik dapat menyajikan data dalam bentuk tabel, diagram gambar (piktogram), diagram batang, dan diagram garis dengan benar.

PETUNJUK BELAJAR



**Membaca doa
sebelum belajar**



**Bacalah
dengan
cermat
setiap
petunjuk
kegiatan**



**Berdiskusi bersama
dengan kelompok**



**Bertanya kepada guru
jika belum paham**



**Berusaha
melakukan
yang
terbaik!**

KEGIATAN 1

Penyajian Data Tabel

**Berikut adalah data nomor sepatu siswa
kelas V SDN 01 Nusantara
30 28 35 32 30 28 30 37 35 32 28 30 28 28 32**

**(Masukkan data tersebut
ke dalam tabel!)**

**Data nomor sepatu siswa kelas V
SDN 01 Nusantara**

| | |
|--|--|
| | |
| | |
| | |
| | |
| | |
| | |
| | |
| | |

KEGIATAN 2

Penyajian Data Diagram Gambar (Piktogram)

Data Penjualan Jeruk

Senin = 25 kg

Selasa = 20 kg

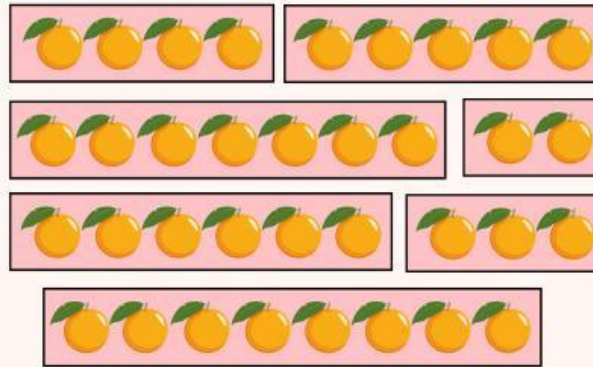
Rabu = 10 kg

Kamis = 15 kg

Jumat = 30 kg

Sabtu = 35 kg

Minggu = 40 kg



(Geser dan masukkan gambar ke dalam diagram)

Diagram Gambar Penjualan Jeruk

| Hari | Banyak Penjualan (kg) |
|--------|-----------------------|
| Senin | |
| Selasa | |
| Rabu | |
| Kamis | |
| Jumat | |
| Sabtu | |
| Minggu | |

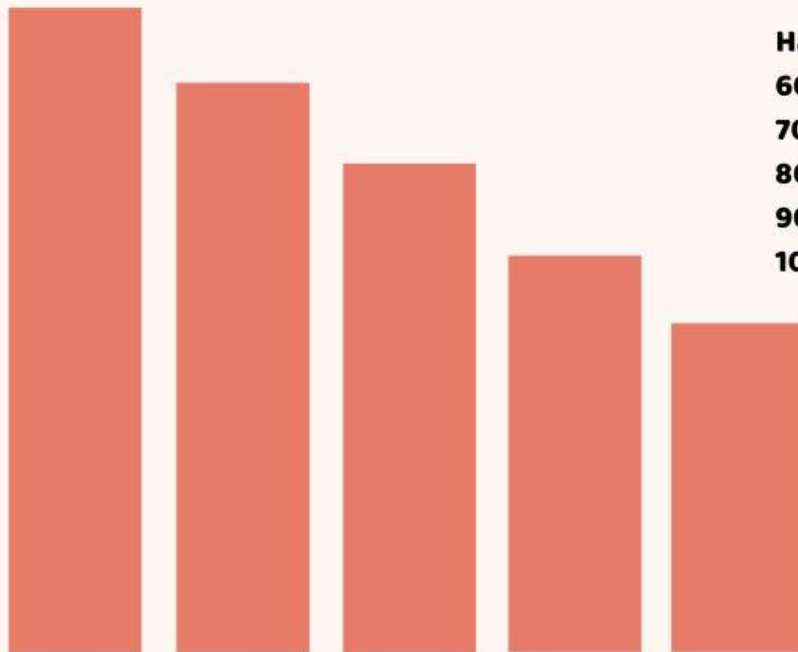
Ket:



= 5 kg

KEGIATAN 3

Penyajian Data Diagram Batang



Hasil Nilai Ulangan

60 = 5 siswa

70 = 7 siswa

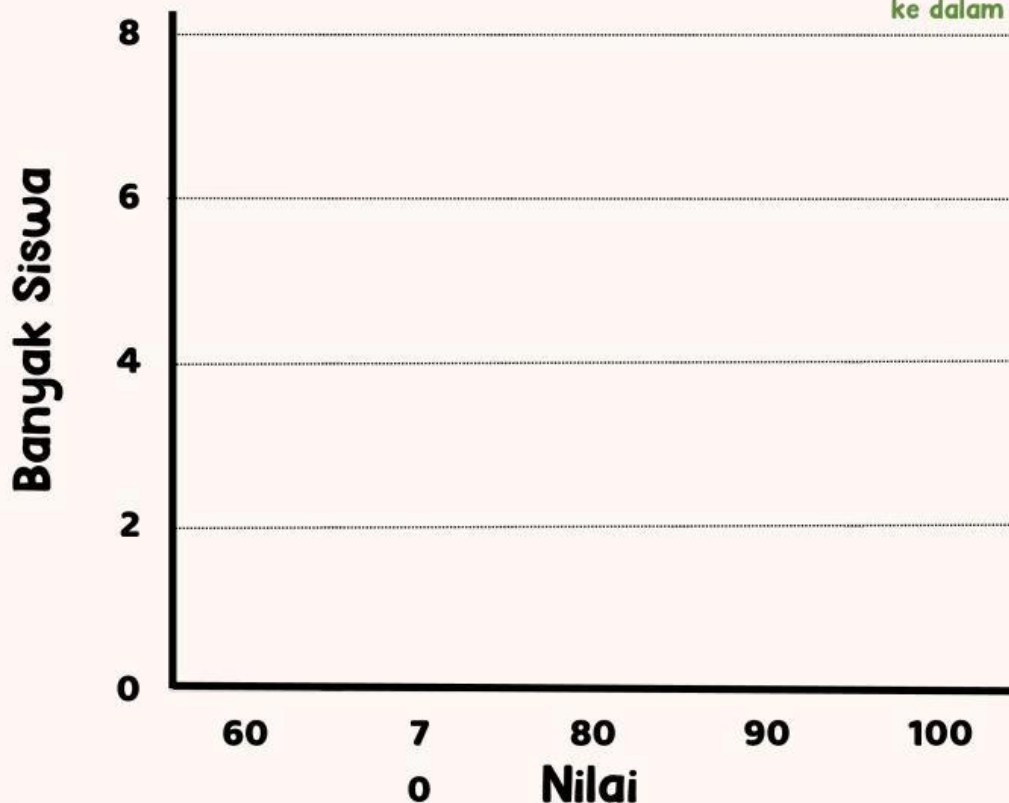
80 = 8 siswa

90 = 6 siswa

100 = 4 siswa

Diagram Batang Nilai Ulangan
Matematika Kelas V SD

(Geser dan
masukkan batang
ke dalam diagram)



KEGIATAN 4

Penyajian Data Diagram Garis

Nilai Ulangan Matematika
Peserta Didik Kelas V

| Nilai | Banyak Peserta Didik |
|-------|----------------------|
| 60 | 5 |
| 70 | 7 |
| 80 | 8 |
| 90 | 6 |
| 100 | 4 |

Pilihlah salah satu diagram garis berikut dengan benar!

Diagram Garis Nilai Ulangan Matematika Peserta Didik Kelas V

