

# TRANSFERENCIA Y PRÁCTICA SEMANA 15 – CIENCIAS SOCIALES

Nombre: \_\_\_\_\_ 4° \_\_\_\_\_

1. Observa la imagen y escribe en los recuadros los límites de Colombia, ten en cuenta la primera letra.



|    |   |   |                    |
|----|---|---|--------------------|
| V  | E | B | P                  |
| Pa | N | C | R                  |
| H  | H | J | O _____<br>P _____ |

2. Observa el mapa de Colombia y arrastra el nombre de los departamentos fronterizos que limitan con los países continentales. Ten en cuenta las iniciales.

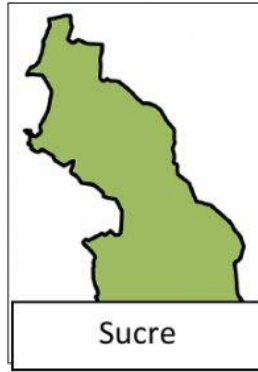
|    |     |    |    |
|----|-----|----|----|
| P  | A   | Va | G  |
| Vi | Ar  | B  | NS |
| Ce | Gui | N  | C  |



3. Selecciona los departamentos que limitan con el departamento de Antioquia.



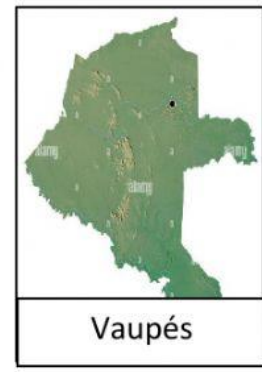
Chocó



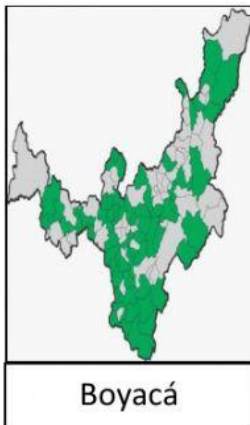
Sucre



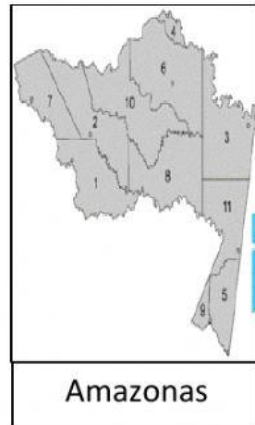
Córdoba



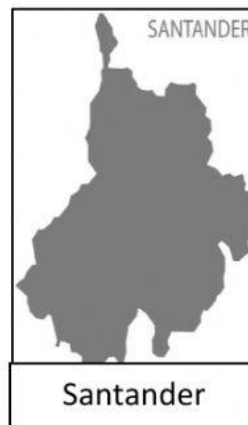
Vaupés



Boyacá



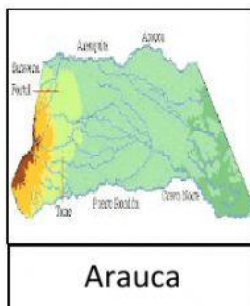
Amazonas



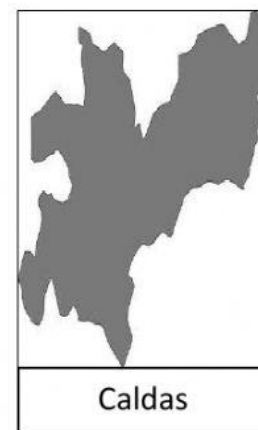
Santander



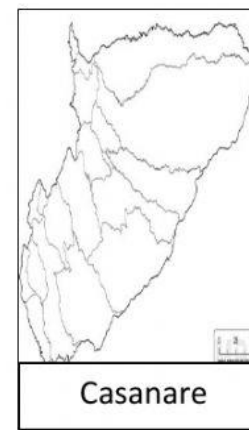
Bolívar



Arauca



Caldas



Casanare



Risaralda

4. Un límites es:

- a. Es una zona territorial de tránsito entre dos culturas, por cuestiones políticas y administrativas.
- b. Una división física o imaginaria, entre dos territorios.
- c. En una zona de difícil tránsito.

5. Una frontera es:

- a. Es una zona territorial de tránsito entre dos culturas, por cuestiones políticas y administrativas.
- b. Una división física o imaginaria, entre dos territorios.
- c. En una zona de difícil tránsito.