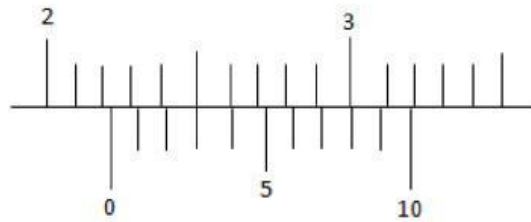


MEMBACA ALAT UKUR

1

Perhatikan gambar hasil pengukuran panjang balok dibawah ini.

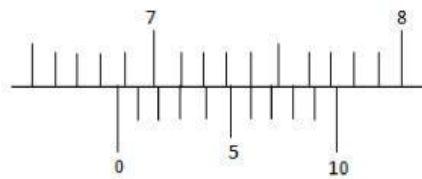


Contoh soal jangka sorong nomor 1

Panjang balok tersebut adalah...

2

Sebuah panjang benda diukur dengan jangka sorong dan skala yang ditunjukkan sebagai berikut:

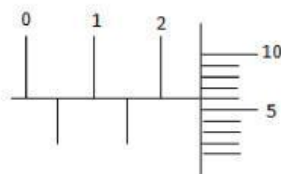


Contoh soal jangka sorong nomor 2

Tentukan panjang benda.

3

Gambar berikut menunjukkan hasil pembacaan skala pengukuran diameter bola kecil dengan mikrometer sekrup.

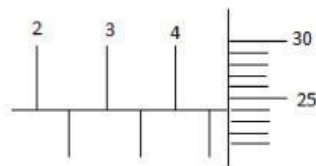


Contoh soal mikrometer sekrup nomor 1

Tentukan diameter bola kecil.

4

Gambar dibawah merupakan hasil bacaan pengukuran diameter silinder logam dengan mikrometer sekrup.

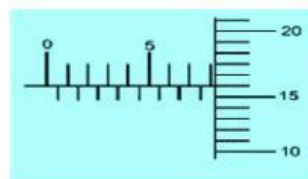


Contoh soal mikrometer sekrup
nomor 2

Tentukan hasil pengukurannya.

4

Kedudukan skala sebuah mikrometer sekrup yang digunakan untuk mengukur sebuah bola kecil seperti gambar.

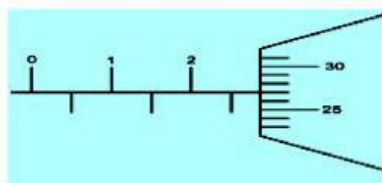


Soal mikrometer sekrup nomor 3

Berdasarkan gambar tersebut dapat dilaporkan diameter bola kecil adalah...

5

Gambar dibawah merupakan hasil bacaan pengukuran diameter silinder logam dengan mikrometer sekrup.

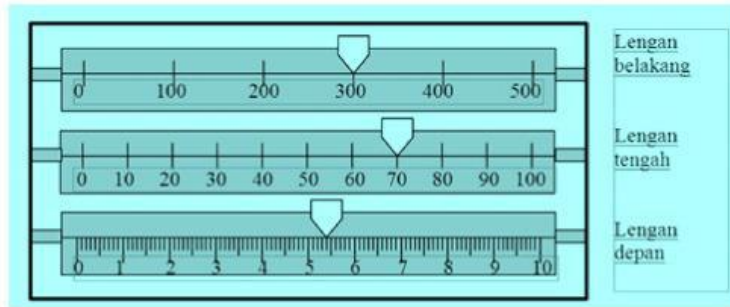


Soal mikrometer sekrup nomor 4

Laporan yang dituliskan adalah...

6

Pengukuran massa sebuah benda dengan menggunakan neraca Ohaus ditunjukkan seperti gambar.




Contoh soal neraca ohaus nomor 1

Massa yang terukur adalah ...

7

Perhatikan hasil timbangan dengan neraca Ohaus tiga lengan berikut.



Contoh soal neraca Ohaus nomor 2

Massa benda yang ditimbang adalah ...