



CENTRO EDUCACIONAL MANTICA BERIO
GUÍA PÁRCTICA DE MATEMÁTICA
SÉPTIMO GRADO - II CORTE EVALUATIVO
TEMA: CLASIFICACIÓN DE ÁNGULOS SEGÚN SU MEDIDA.

Nombre del estudiante: _____ Docente: Lic. Beatriz E. Herrera.

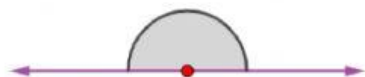
Actividad número 1 Escribe el nombre de cada ángulo según la clasificación por su medida.

80°	135°	266°	355°	360°	180°	90°

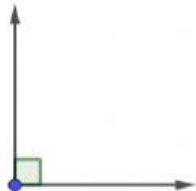
Actividad número 2 Relaciona cada ángulo con la clasificación correspondiente. Une con una línea.



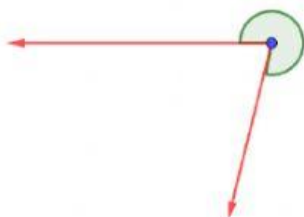
Cóncavo



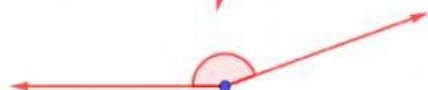
Obtuso



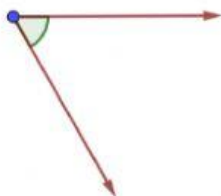
Perígono



Llano



Agudo



Recto