



PEMERINTAH DAERAH KHUSUS IBUKOTA JAKARTA

DINAS PENDIDIKAN

SMP NEGERI 79 JAKARTA

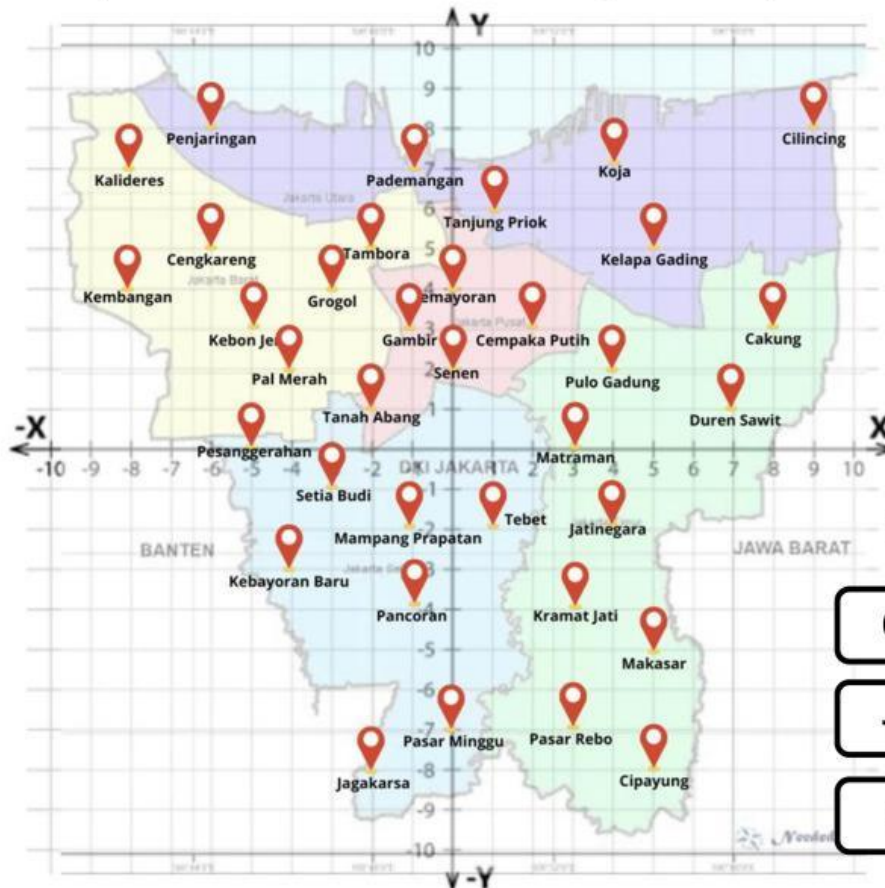
Jalan Dakota Raya, Kelurahan Kebon Kosong, Kec. Kemayoran, Jakarta Pusat. Telp. (021) 4208740

LEMBAR SOAL PENILAIAN HARIAN KE-1

MATEMATIKA

BAGIAN KE-1

Perhatikan gambar dibawah ini! Dibawah ini adalah gambar peta provinsi DKI Jakarta yang menunjukkan alamat kantor Kecamatan setiap kota-kotanya!



No	Kecamatan	Titik Koordinat
1.	Kelapa Gading	
2.	Setia Budi	
3.	Kemayoran	
4.	Kebon Jeruk	
5.	Jagakarsa	
6.	Pasar Minggu	
7.	Matraman	

Pindahkan kotak dibawah ini ke dalam tabel diatas!

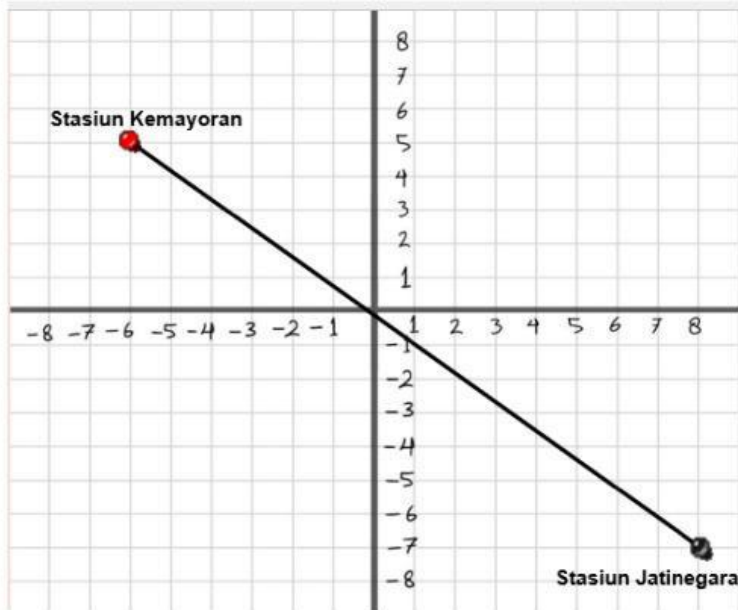
0,-7	-2,-8	0,4
-5,3	5,5	-5,0
3,0	4,0	-3,-1

BAGIAN KE-2

Perhatikan gambar diatas! Lihatlah gambar dengan seksama, kemudian pilihlah setiap pernyataan dengan jawaban BENAR atau SALAH!

No	Pernyataan	Benar	Salah
1.	Pal Merah, Gambir dan Tanah abang berada pada kuadran III		
2.	Jagakarsa memiliki jarak terjauh dari sumbu Y		
3.	Jarak dari Pasar Minggu ke sumbu X adalah 0 satuan		
4.	Cakung dan Kembangan memiliki jarak yang sama ke sumbu Y		
5.	Pasar Rebo lebih dekat dengan sumbu X jika dibandingkan dengan kemayoran		

BAGIAN KE-3

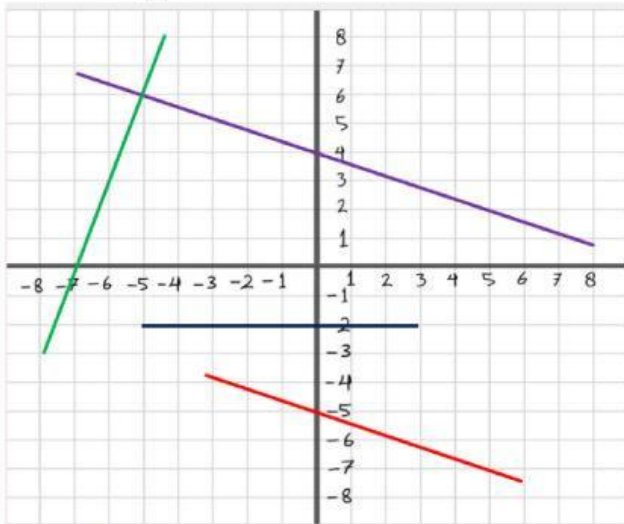


Jaki ingin mencoba naik kereta api rute kemayoran – jatinegara.

1. Stasiun Kemayoran terletak pada titik koordinat (..... ,) dan stasiun Jatinegara titik koordinat (..... ,)
2. Stasiun yang dilewati Jaki sebelum sampai di stasiun Jatinegara adalah titik koordinatnya adalah (..... ,)
3. Jika rute kereta api Jaki diperpanjang dengan garis lurus, maka stasiun yang dilalui setelah stasiun Jatinegara terletak pada titik koordinat (..... ,)

BAGIAN KE-4

Perhatikan gambar dibawah ini!



No	Pernyataan	Benar	Salah
1.	Garis berwarna biru sejajar dengan sumbu X		
2.	Garis berwarna merah sejajar dengan garis berwarna ungu		
3.	Garis berwarna hijau berpotongan dengan sumbu X di titik (0,-7)		
4.	Garis berwarna ungu berpotongan dengan garis berwarna hijau di titik (-5,6)		
5.	Garis berwarna biru berpotongan dengan garis berwarna merah di titik (2,-6)		