


Diagnóstico matemáticas

1. Selecciona cuál tiene menos.



2. Completa la siguiente numeración:

| | | | | | | |
|----|----|----|----|----|----|----|
| 10 | | | 13 | 14 | | 16 |
| | | 19 | | | 22 | |
| | 25 | | | 28 | | 30 |
| | | 33 | | | 36 | |
| | | | 41 | | | |
| | | 47 | | | | |
| | | | 55 | | | |

3. ¿Cuál número es mayor?

4. Cuenta y escribe el dinero que hay.



5. Realiza las siguientes sumas:

$$\begin{array}{r} + 23 \\ \underline{65} \end{array}$$

$$\begin{array}{r} + 38 \\ \underline{52} \end{array}$$

$$\begin{array}{r} + 176 \\ \underline{213} \end{array}$$

6. Realiza las siguientes restas:

$$\begin{array}{r} - 68 \\ \underline{22} \end{array}$$





$$\begin{array}{r} - 78 \\ \underline{43} \end{array}$$

$$\begin{array}{r} - 238 \\ \underline{114} \end{array}$$

7. Completa la siguiente serie numérica:

| | | | | | | | | | |
|--|----|--|---|--|----|--|---|--|----|
| | | | 4 | | | | 8 | | |
| | 12 | | | | 16 | | | | 20 |

8. Escribe el números de animalitos:

| | | | |
|---|---|---|---|
|  |  |  |  |
| <input type="text"/> | <input type="text"/> | <input type="text"/> | <input type="text"/> |