

# Cuento "El sombrero mágico" Figuras Geométricas



Observar el siguiente video:

Luego de observar el video responder las siguientes preguntas:

¿Qué tiene el sombrero mágico?






¿Cuántas figuras geométricas tiene el sombrero?

2

4

6

Seleccionar las figuras geométricas que tiene el sombrero



En casa construir un sombrero mágico:  
Dentro del sombrero debe tener figuras geométricas de  
diferentes colores, tamaño y forma.  
Muy divertidas

Presentar para la siguiente clase.

