

INICIACIÓN AL CONCEPTO DE ÁREAS


16. Calcula el área de cada animal utilizando como unidad el cuadrado de la cuadrícula.

a.



Cuadrados

b.



cuadrados

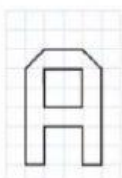
c.



cuadrados

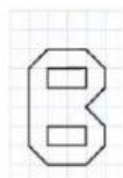
19. Ordena estas letras de mayor a menor superficie:

a.



cuadros

b.



cuadros

c.



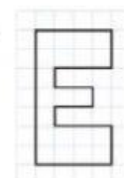
cuadros

d.



cuadros

e.

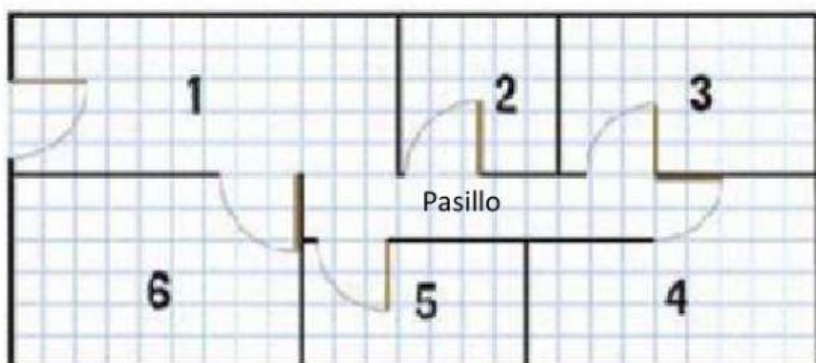


cuadros

Calcula previamente el área en cuadritos

> > > >

22. Mide la superficie de las dependencias tomando el cuadrado de la cuadrícula como unidad



1

2

3

4

5

6

Pasillo