

INDICACIONES

1. Lee cada pregunta con mucha atención.
2. Luego resuelve la pregunta selecciona la respuesta correcta.
3. Si lo necesitas puedes leer nuevamente la pregunta.
4. Sólo debes marcar una respuesta por cada pregunta.

1. Resuelve la adición y marca la respuesta.

$$25 + 16$$

- a. 31
- b. 9
- c. 41

2. A 53 réstale 18 y marca la respuesta.

- a. 71
- b. 35
- c. 45

3. Juana vende 19 choclos en una semana y María vende 36. ¿Cuántos choclos más tendrá que vender Juana para igualar a María?

- a. 17
- b. 55
- c. 175

4. En un salón de clase hay 10 estudiantes en total. Si La mitad son mujeres, ¿cuántos son varones?

- a. 5
- b. 15
- c. 20

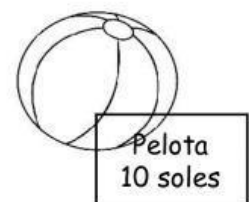

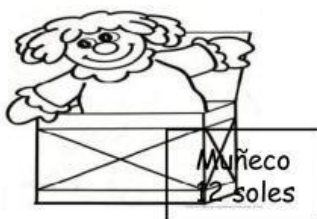
5. Observa la siguiente información referida a estudiantes matriculados en primer y segundo grado.

	Primer Grado	Segundo Grado
Varones	20	30
Mujeres	70	30

Responde a la siguiente pregunta. ¿Cuántos estudiantes se inscribieron en primer grado?

- a. 60
- b. 50
- c. 90

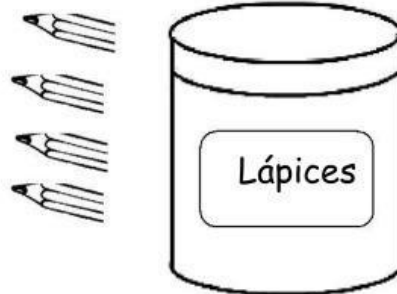
6. Observa los juguetes que se venden en la juguetería "Bianquita":



Alex tiene 9 soles y quiere comprar el robot. ¿Cuántos soles le faltan para poder comprarlo?

- a. 3 soles.
- b. 6 soles.
- c. 9 soles.

7. Maribel tiene 19 lápices en total, 4 están fuera de la lata y el resto está dentro. ¿Cuántos lápices están dentro de la lata?

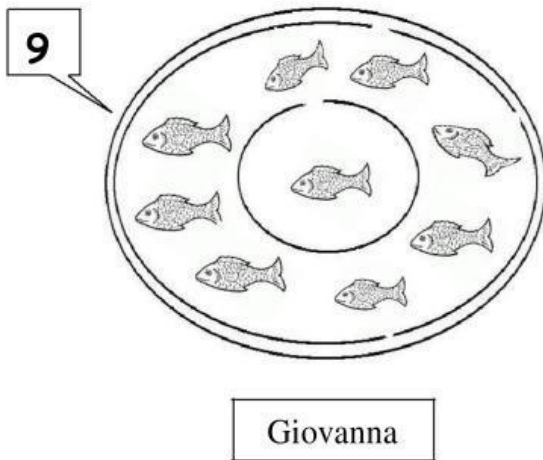
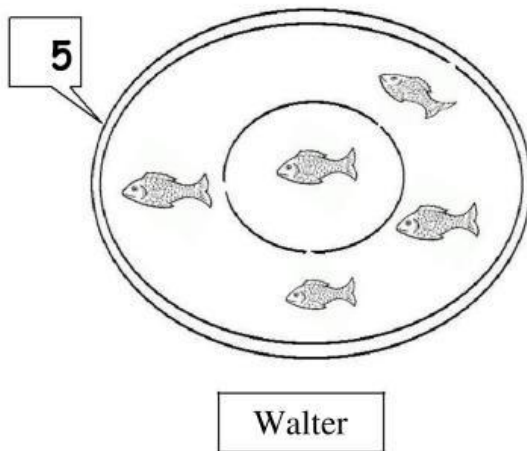


a. 15 lápices.

b. 23 lápices.

c. 59 lápices.

8. Observa en los platos la cantidad de pescados que tienen Giovanna y Walter.



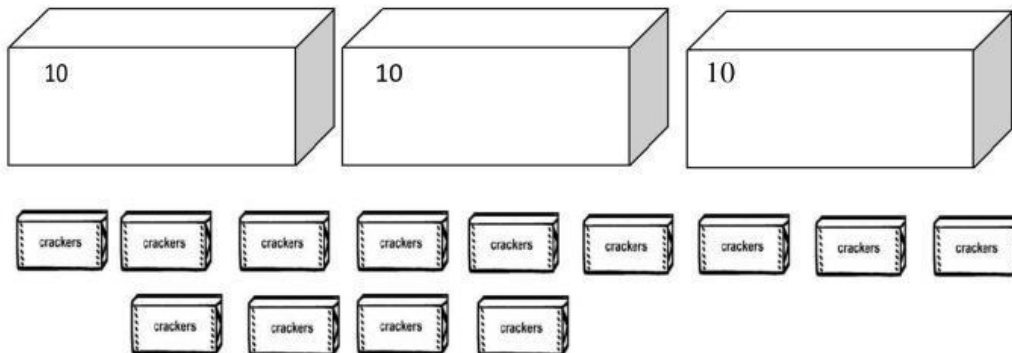
¿Cuántos pescados más que Walter tiene Giovanna?

a. 10 pescados.

b. 14 pescados.

c. 4 pescados.

9. Observa el dibujo y responde: ¿Cuántos paquetes de galletas hay en total?



a. 33 paquetes de galletas.

b. 43 paquetes de galletas.

c. 16 paquetes de galletas.

10. Lee la etiqueta de las canastas y responde, ¿en cuál de estas canastas hay más manzanas? Márcala con X

a)



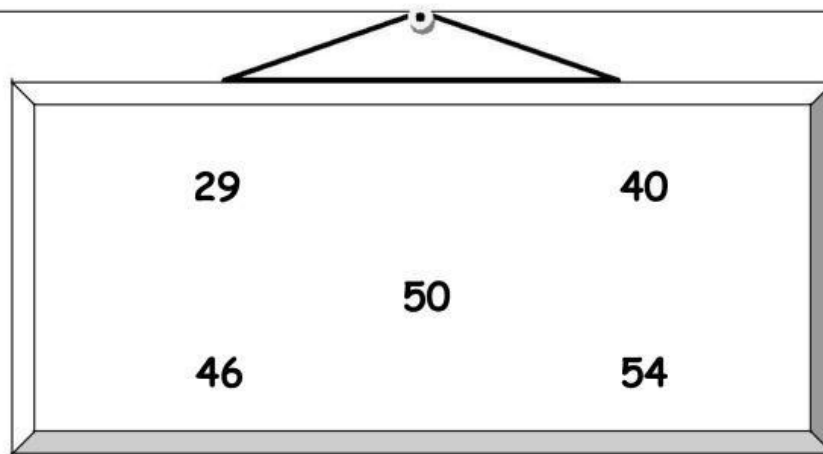
b)



c)




11. Del siguiente grupo de números, ¿cuáles son MENORES que 45?



- a. 40 y 54
- b. 46 y 29
- c. 29 y 40

12. En la figura, ¿cuántos pescados hay en total?




- a. 3 decenas de pescados.
- b. 10 unidades de pescados.
- c. 30 decenas de pescados.

13. Usando el material Base Diez



- a. 4 barras de decenas y 6 cubitos de unidades
- b. 3 barras de decenas y 16 cubitos de unidades
- c. 4 barras de decenas y 16 cubitos de unidades

14. Observa el cartel:



Ahora responde: ¿cuántos trencitos puedes canjear con 25 puntos y cuántos puntos te sobrarán?

- a. Canjeo 5 trencitos y me sobrarán 4 puntos.
- b. Canjeo 2 trencitos y me sobrarán 5 puntos.
- c. Canjeo 25 trencitos y no me sobrará ningún punto.

15. José tiene 3 billetes de 10 soles y 4 monedas de un sol, Miriam tiene 2 billetes de 10 soles y 15 monedas de un sol. ¿Quién de los dos tiene más dinero?



- a. José
b. Ambos tienen la misma cantidad
c. Miriam

16. Sonia trabaja en una fábrica de blusas. Ella confecciona la misma cantidad de blusas cada día. Observa cómo lleva la cuenta de lo que va avanzando en la semana:

El lunes	Hasta el martes	Hasta el miércoles	Hasta el jueves	Hasta el viernes
20	25	30		40

¿Cuántas blusas confeccionó hasta el jueves?

- a. 31 b. 35 c. 45

17. Piero y Percy anotan la misma cantidad de goles durante el campeonato de fin de semana. Observa sus anotaciones en los dos partidos:

	Sábado	Domingo	Total
Piero	8	4	12
Percy	X	6	12

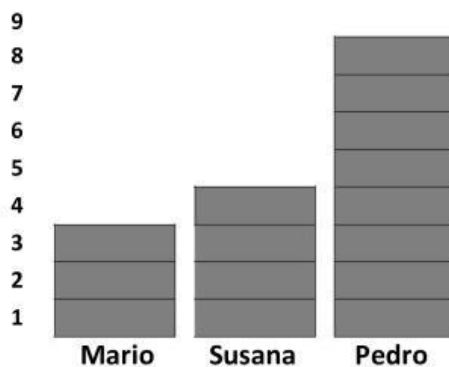
¿Cuántos goles anotó Percy el día sábado?

a. 8

b. 18

c. 6

18. La maestra Rina cuenta las chapas traídas por sus alumnos. Observa el gráfico que elaboró:



Si Pedro y Mario juntan sus chapas y quieren comprar un juguete diferente para cada uno ¿Qué juguetes pueden comprar?

a. Un trompo y un carrito

b. Una pelota

c. Un trompo y una pelota

19. Los niños de segundo grado han recolectado en su aula 38 botellas plásticas. Luego utilizaron 6 de ellas para sus depósitos de lápices. ¿Cuántas botellas sin utilizar tienen ahora?



- a. 32 botellas b. 44 botellas c. 34 botellas

20. Observa los precios en la librería "Don Mauro"

<u>Precios de útiles escolares</u>	
Cuaderno	4 soles
Folder	3 soles
Libro de cuentos	8 soles
Estuche de plumones	5 soles

La mamá de Flora compra un folder, un estuche de plumones y un cuaderno. Si paga con un billete de 20 soles. ¿Cuánto recibe de vuelto?

- a. 12 soles b. 32 soles c. 8 soles