

# PROBLEMAS CON DINERO

## 1. Escribe cuántos céntimos son.

7,35 € =  céntimos

2,50 € =  céntimos


5,64 € =  céntimos



3,40 € =  céntimos

4,60 € =  céntimos


## 2. Resuelve.

Jaime quiere comprar una caja de colores y un bolígrafo. ¿Cuánto dinero tiene que pagar?



Datos   € =  céntimos  
  € =  céntimos

Operación


Solución  Tiene que pagar \_\_\_\_ euros y \_\_\_\_ céntimos.

Ana se quiere comprar un cuento de Caperucita Roja.

Tiene 6,83 €. ¿Cuánto dinero le falta?



Datos ▶  € =  céntimos  
 € =  céntimos

Operación


Solución ▶ Le faltan \_\_\_\_ euros y \_\_\_\_ céntimos.

---

Tengo estas monedas



Me dan



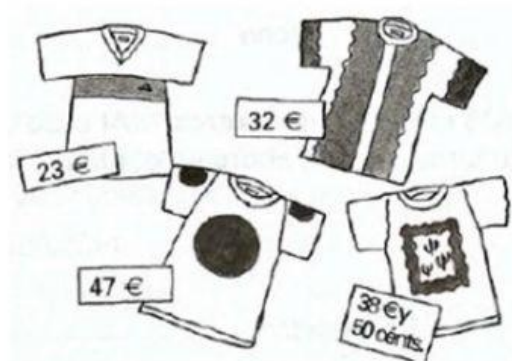
¿Cuánto dinero tengo?

Datos ▶  € =  céntimos  
 € =  céntimos

Operación


Solución ▶ Tengo \_\_\_\_ euros y \_\_\_\_ céntimos.

**Martín tiene este dinero en su hucha y compra la camiseta más barata. ¿Cuánto dinero le sobra?**



**Datos** ▶  € =  céntimos  
 € =  céntimos

Operación		

**Solución** ▶ Le sobran \_\_\_\_ euros y \_\_\_\_ céntimos.