


MITAD DE UN NÚMERO

**PARA CALCULAR LA MITAD DE UN NÚMERO
DIVIDE EL NÚMERO ENTRE 2.**




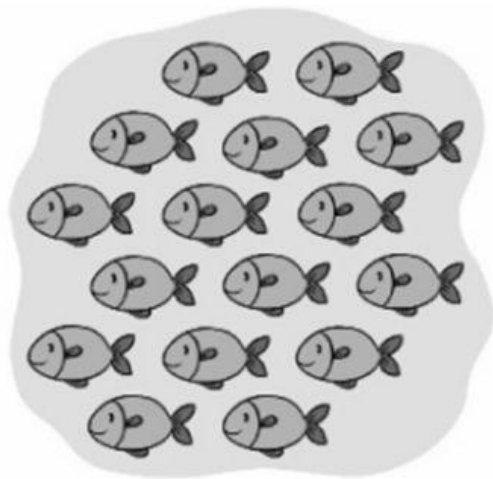
$$\boxed{6} \div \boxed{2} = \boxed{3}$$

1. Reparte en dos grupos iguales y completa.



$$\boxed{12} \div \boxed{} = \boxed{}$$

La mitad de 12 es .



$$16 : \square = \square$$

La mitad de \square es \square .

2. Calcula.

La mitad

• De 2 ► $2 \div 2 = \square$

• De 14 ► $\square \div \square = \square$

• De 16 ► $\square \div \square = \square$

• De 8 ► $\square \div \square = \square$

3. Resuelve.

Rosa tiene 10 años y su hermano tiene la **mitad** de años que ella ¿Cuántos años tiene su hermano?

$$\square \circ \square = \square$$

Su hermano tiene ____ años.



Felipe tiene 10 globos y Lucía tiene la **mitad** que él. ¿Cuántos globos tiene Lucía?

$$\square \div \square = \square$$

Lucía tiene ____ globos.

