



Tugas PR

Nama :

Kelas : 1 B

Sekolah : SDN Kelapa Dua III

- Melengkapi huruf
- Melengkapi nama teman-teman Siti
- Menghitung jumlah benda



Nama _____



Melengkapi huruf

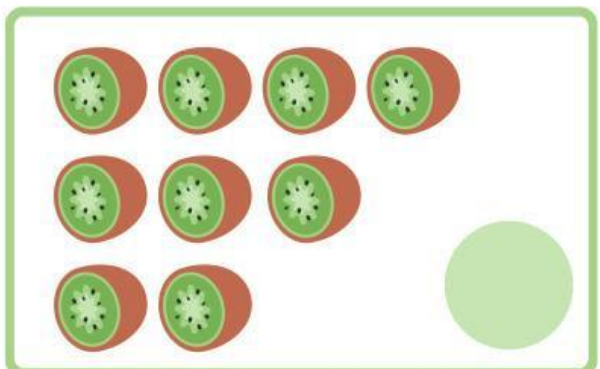
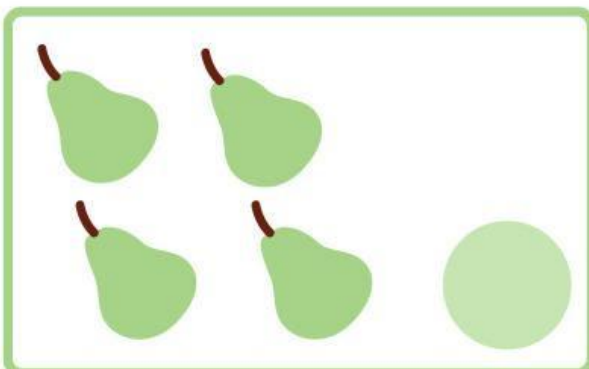



Ayo lengkapi huruf abjad di bawah ini!





Menghitung dari 1 sampai 10

Hitunglah ada berapa banyak buah-buahan dan tuliskan pada lingkaran yang tersedia!





Melengkapi nama teman-teman Siti

Lengkapi huruf dari nama teman - teman Siti



B - - n



E - d -



D - - y -



L - - n -



..... - d - - n