

Medidas de ángulos

★ **Marcá** la unidad que se usa para medir los ángulos:

hora metro grado kilómetro litro

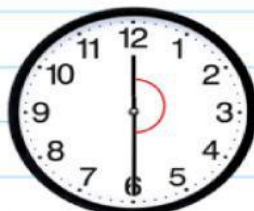
★ **Completa** en cada caso:

a) El ángulo que hace la tijera.

b) El ángulo que forman las agujas del reloj.



Mide de $\frac{1}{4}$ de vuelta.




Mide vuelta.

c) El ángulo de la calculadora.

d) El ángulo de la percha.




Mide vuelta.



Mide de $\frac{1}{4}$ de vuelta.

★ **Pintá** el o los elementos que usarías en cada caso:

¿Con qué elemento lo medís?



- ☐ Regla
- ☐ Escuadra
- ☐ Compás
- ☐ Transportador

¿Con qué elemento lo construís?



- ☐ Regla
- ☐ Escuadra
- ☐ Compás
- ☐ Transportador

Lo podés medir con:



- ☐ Regla
- ☐ Escuadra
- ☐ Compás
- ☐ Transportador

Lo trazás con:



- ☐ Regla
- ☐ Escuadra
- ☐ Compás
- ☐ Transportador

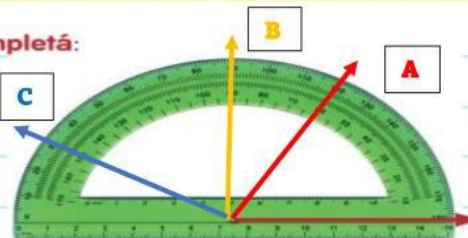
★ **Marcá** en cada caso el ángulo indicado y **completá**:



Un ángulo de 60°

Mide de 90°.

Es un ángulo



Un ángulo de 160°.

Mide de 90°.

Es un ángulo

Un ángulo recto.

Mide

