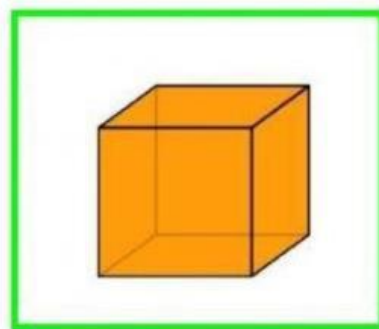
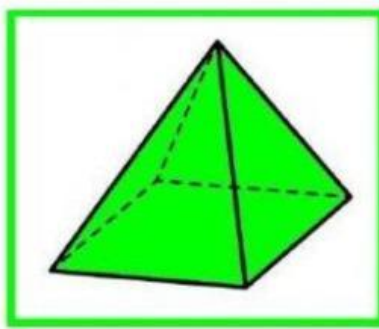
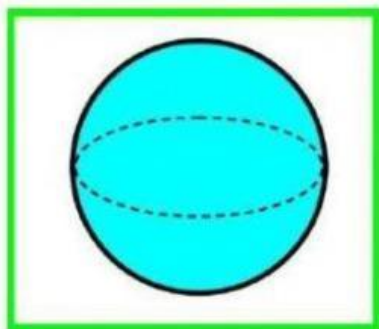
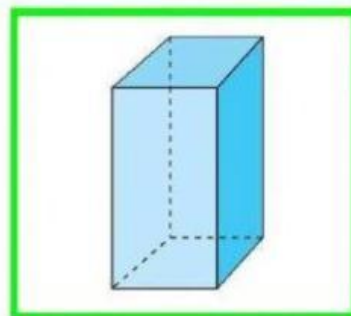

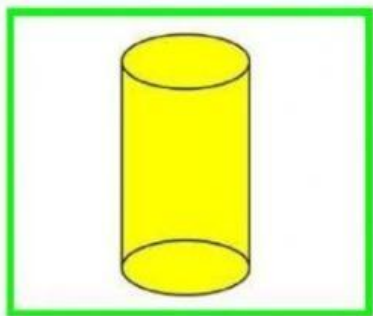


EVALUACIÓN DE CUERPOS GEOMÉTRICOS

Nombre: _____

1. Escribe el nombre de cada uno de los cuerpos geométricos



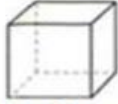
2. Completa el siguiente cuadro

CUERPO GEOMETRICO	CANTIDAD DE CARAS	CANTIDAD DE VERTICES
CUBO		
PARALELEPIPEDO		
CILINDRO		
CONO		
ESFERA		

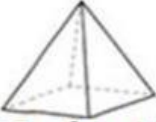
3. UNE EL CUERPO GEOMETRICO CON LA FIGURA QUE SE RELACIONA



Esfera



Cubo



Pirámide



Cilindro



Cono

