

## EXAMEN DEL PRIMER TRIMESTRE

ESTUDIANTE: \_\_\_\_\_

DOCENTE: Lic. Dioselina Vélez

FECHA: \_\_\_\_\_

CURSO: Tercero

1. Escriba las partes de la computadora.

1.40 ptos.



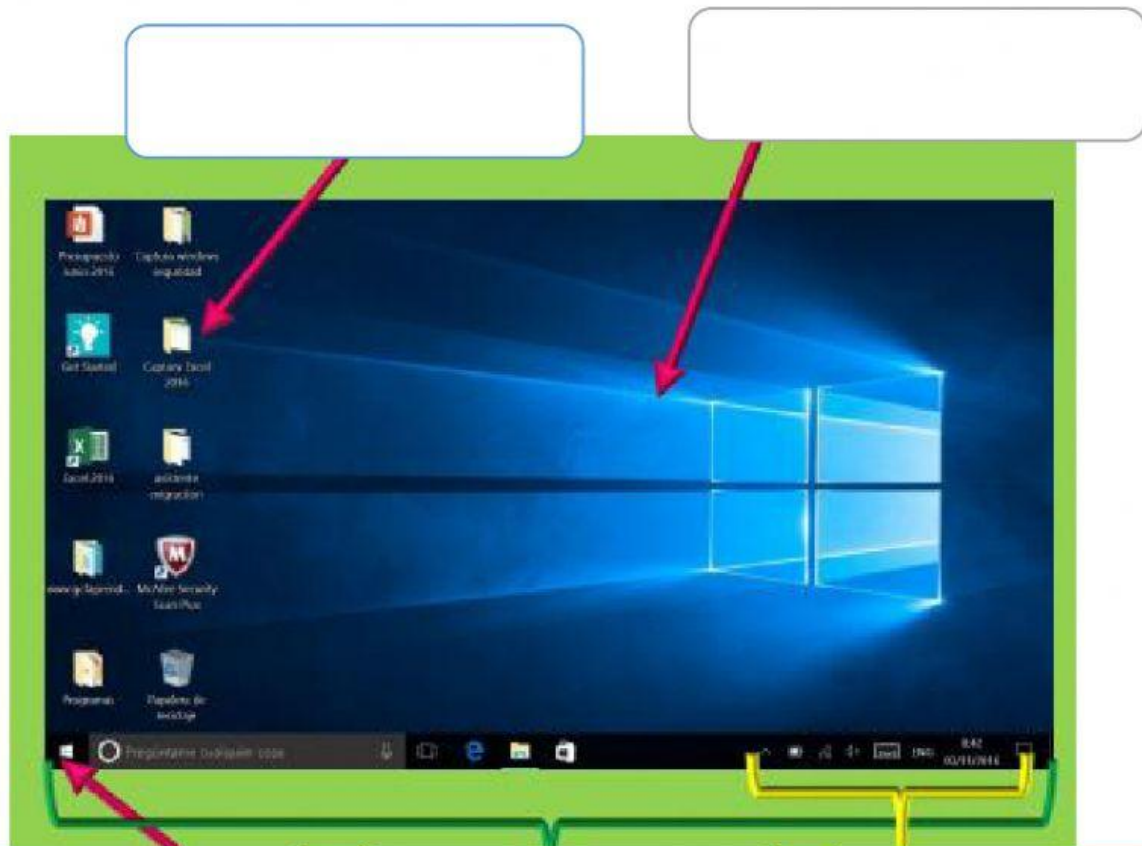
2. Contesta Verdadero (V) o Falso (F)

0.50 dcmas.

	La pantalla contiene los íconos de muchos de los programas que utilizamos más frecuentemente.
	La pantalla principal de Windows se llama ESCRITORIO.
	El menú inicio es la entrada principal a los programas, carpetas y configuraciones.
	El fondo de escritorio nos permite entrar a los programas.

3. Escribir las partes del escritorio de Windows.

1pt.



4. Una con línea cada elemento con la descripción o definición. 0.40 dcmas.

ÍCONOS

IMAGEN DECORATIVA EN NUESTRA COMPUTADORA COMO TAPIZ.

INICIO

REPRESENTACIÓN GRÁFICA DE UN PROGRAMA, CARPETA, ARCHIVO O ACCESO DIRECTO; DONDE GUARDAMOS INFORMACIÓN.

FONDO

LUGAR DONDE SE MINIMIZAN TODOS LOS DOCUMENTOS, PROGRAMAS, CARPETAS QUE TENEMOS ABIERTOS.

BARRA DE TAREAS

MUESTRA LA VARIEDAD DE PROGRAMAS Y TODO LO QUE CONTIENE NUESTRO COMPUTADOR.

5. Escriba el nombre de cada icono.

0.60 dcmas.



\_\_\_\_\_




\_\_\_\_\_



\_\_\_\_\_

6. Escriba las partes del monitor.

1pt.









7. Escriba el nombre de cada funcionamiento de la computadora. 1pt.

Enunciado	Parte
Conmigo puedes escribir.	
Soy el cerebro de la computadora.	
Yo muevo al puntero.	
Escucha música conmigo.	
También me llaman pantalla.	




8. Escriba el nombre de las siguientes teclas.

1.20 pts.






	
	
	
	
	
	

9. Escriba el nombre de los siguientes estilos de formato.

0.60 dcmas.

	<hr/>
	<hr/>
	<hr/>

10. Escriba el nombre de las siguientes herramientas. 1.40 pts.

11. Seleccione si la imagen representa software o hardware. 0.90 dcmas.

	SOFTWARE	HARDWARE
