

EXAMEN DEL PRIMER TRIMESTRE

ESTUDIANTE: _____

DOCENTE: Lic. Dioselina Vélez



FECHA: _____

CURSO: Segundo

1. Toque si las imágenes son dispositivos de entrada o salida. 1pt.

Dispositivo	Entrada	Salida
		
		
		
		
		

2. Escribe el nombre de las unidades de almacenamiento. 0.60dcmas.

3. Coloca los SOFTWARE dentro del cuadro.

1,40 pt.



SOFTWARE

4. Escriba cada una de las partes de la computadora. 1.40pts.



5. Escriba el nombre de cada funcionamiento de la computadora. 1pt.

Enunciado	Parte
Conmigo puedes escribir	
Soy el cerebro de la computadora	
Yo muevo al puntero	
Escucha música conmigo	
También me llaman pantalla	

6. Selecciona la respuesta correcta. 1pt.

- La memoria USB sirve para: _____
- ¿Cuál es el nombre de la unidad de almacenamiento interno? _____
- Un dispositivo de salida es: _____
- ¿Cuál es el cerebro de la computadora? _____

7. Escoja el nombre de las partes del teclado.

1Pt.

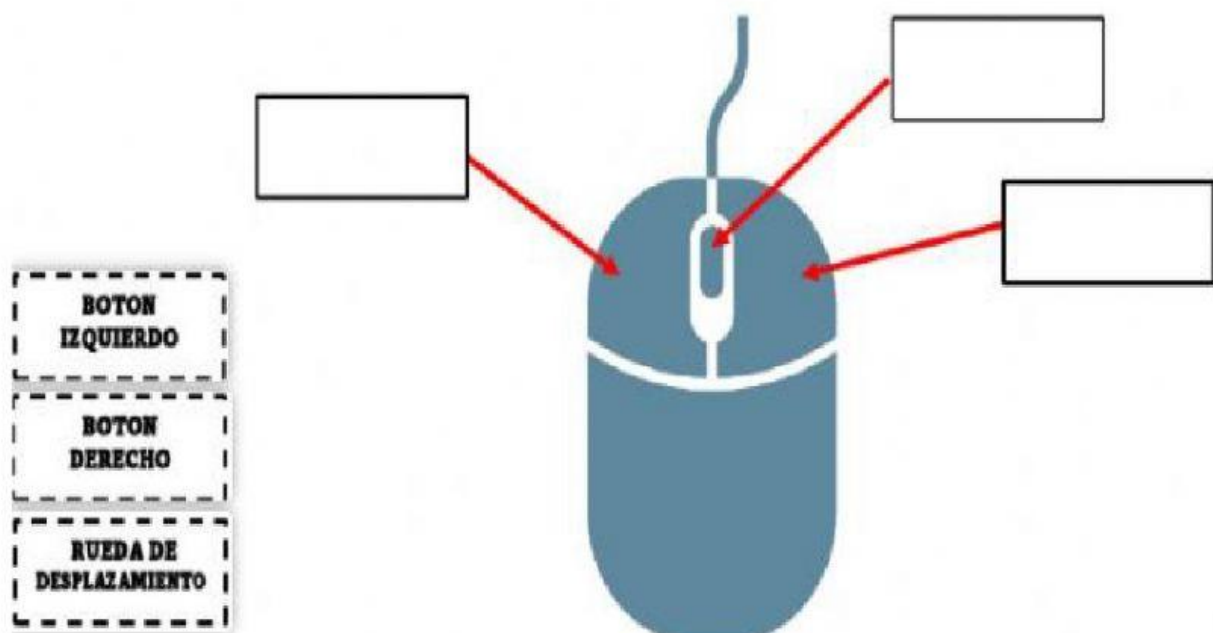


a. Escoja el nombre de las partes del teclado de acuerdo con el color.

b. ¿Para qué sirve las teclas de direccionales o desplazamiento?

8. Coloca el nombre correcto de cada parte del mouse.

0.60dcmas.



9. Una con una línea las funciones del mouse.

0.60dcmas.



Esta parte del mouse nos sirve para subir y bajar.

Es el botón izquierdo del mouse donde son desplaza una ventana.

Es el botón derecho donde nos ayuda a seleccionar algo.

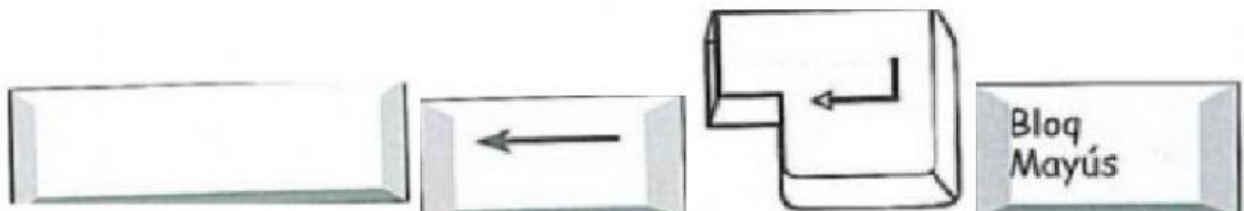
10. Seleccione el dispositivo que son HARDWARE.

1pt.



11. Escoge nombre de las siguientes teclas.

0.40dcmas.



--	--	--	--