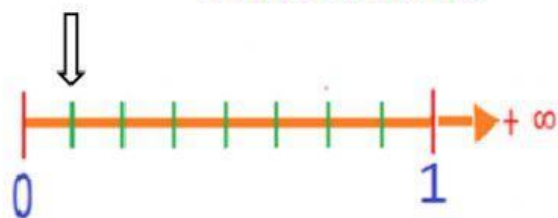


**Instrucción:** Relacione las fracciones de la izquierda con las representaciones gráficas de la derecha

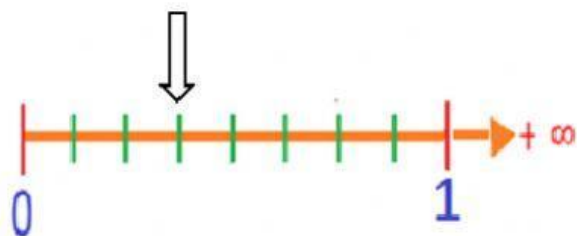
**FRACCIÓN**

**REPRESENTACIÓN GRÁFICA DE  
FRACCIONES.**

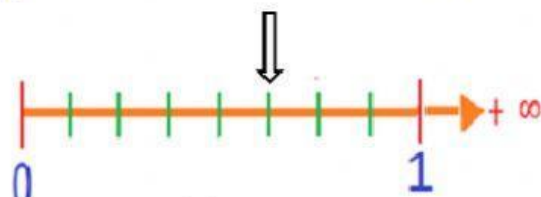
$\frac{4}{8}$



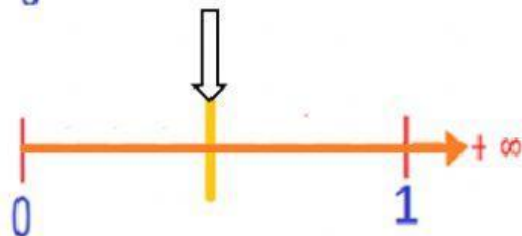
$\frac{2}{8}$



$\frac{1}{8}$



$\frac{3}{8}$



$\frac{5}{8}$

