











## CORPORACION NUEVA GRANADA


Resolución Gob. No 006532 del 29 Nov-2010 y Resol. 002909 de Dic 2008 Resol No 2403 DE 26 NOV 2012  
DANE 354001009270 NIT. 900675422-6  
"Para un mejor futuro Educamos con Excelencia y Calidad"

DOCENTE	KAREN MACIAS		
FECHA	Miércoles 10 de Febrero		
ASIGNATURA	MATEMATICAS	ACTIVIDAD	Evaluación números del 0 al 9 Signos $<$ , $>$ o $=$

### 1. Observa las imágenes, cuenta y selecciona el número correcto

 4   1   3	 2   4   5
 6   7   5	 7   8   9
 9   7   6	 3   6   5
 3   1   2	 5   6   7

### 2. Ubica los signos $<$ , $>$ o $=$ según corresponda

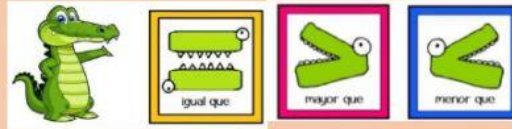


3  6



8

8



2

1



9

7



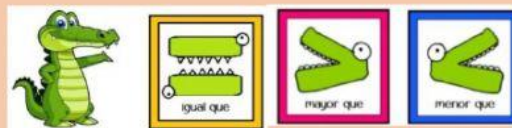
4

4



5

9



9

0

### 3. Ordena los números

