
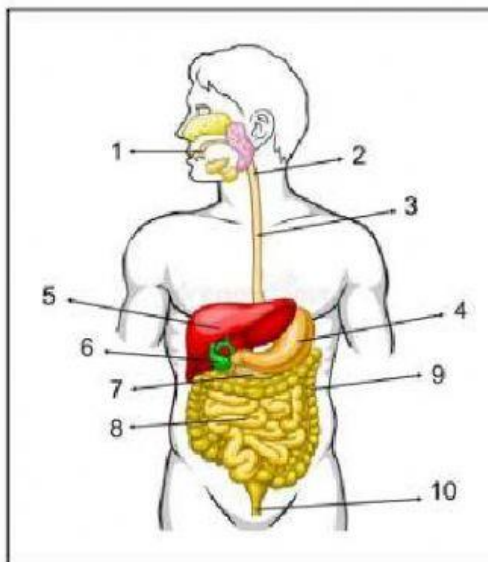


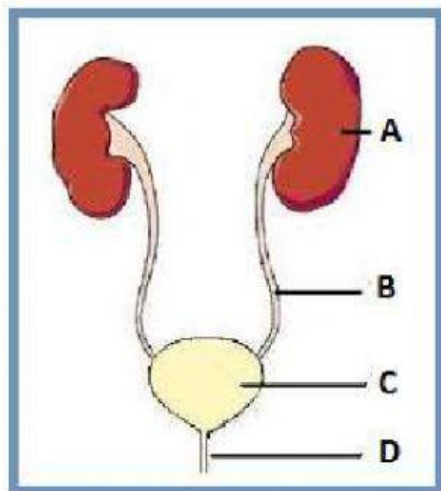
	<i>Ciências – Profª. Ana Lucia Maia</i>		
	<b>Atividade – Sistemas do corpo humano      Data</b>		
	<b>Nome</b>	<b>9º ano</b>	

1) Escreva o nome de cada parte do sistema digestório humano:



1		6	
2		7	
3		8	
4		9	
5		10	

2) Complete as lacunas com os nomes dos órgãos do sistema representado abaixo



Sistema	
A	
B	
C	
D	

3) Arraste e cole corretamente o nome dos órgãos do sistema respiratório

